

حكومة اقليم كردستان - العراق
وزارة التربية
المديرية العامة للمناهج والمطبوعات

المواد الاجتماعية

للفف الخامس الاساس

اعداد

ويسى صالح حمدامين عمر على شريف

الطبعة السادسة ٢٧١٥ كوردي ٢٠١٥ م ١٤٣٦ هجري

الإشراف العلمي:

ويبي صالح حمد أمين

عبيد خضر فتح الله

الترجمة:

حسن حسين شيخو

الإشراف اللغوي:

عبد المجيد حسن بابان

الإشراف الفني وتصميم:

عثمان بيرداود كواز

خالد سليم محمود

التنضيد الإلكتروني:

فيصل عبد العظيم

الغلاف:

امانج اسماعيل عبدي

جغرافية
إقليم كردستان – العراق

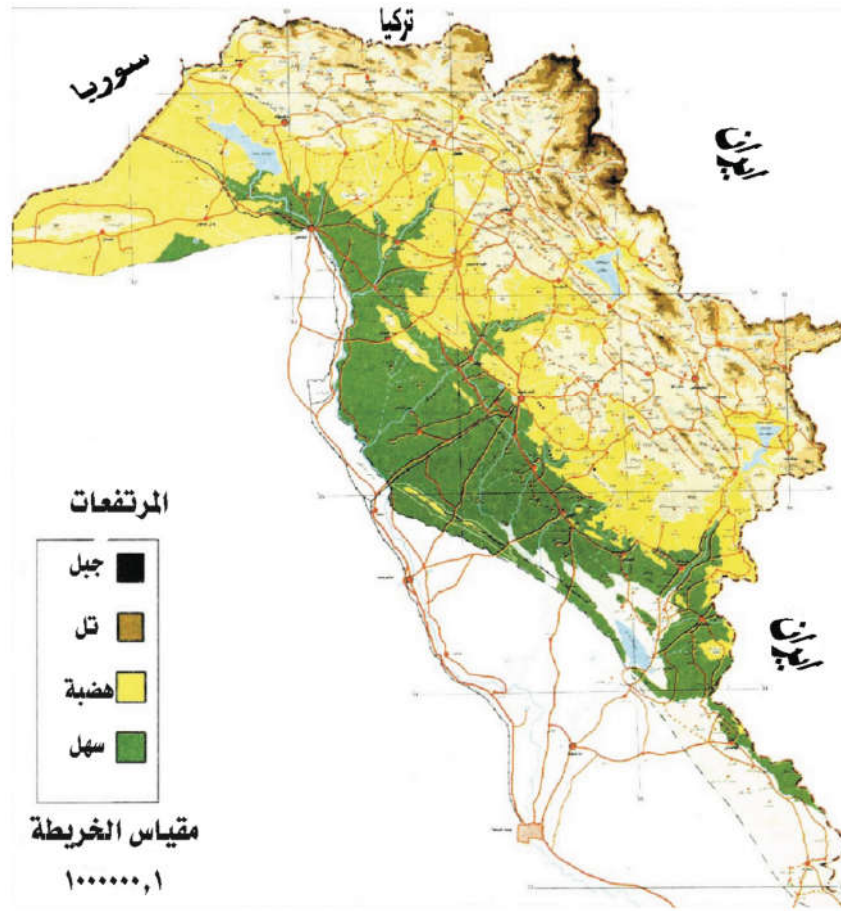


خارطة إقليم كردستان - العراق

الفصل الاول

الجغرافية الطبيعية لأقليم كردستان

الأقليم: عبارة عن مساحة من الأرض تميزها عن الأقاليم الاخرى المجاورة لها عدة ظواهر جغرافية.



خارطة الأقليم كردستان الطبيعية



الظاهرة:

اي شيء على الكرة الأرضية أو في داخلها يشعر به الإنسان ويظهر عليه تأثيره يُسمى بـ(الظاهرة)).

قد تكون الظاهرة طبيعية أو قد تكون بشرية والطبيعية مثل (درجة الحرارة، الرياح، الضغط، الإنسان، الحيوانات، البحار والمحيطات، الجبال والوديان... الخ).

أما الظاهرة البشرية فلها علاقة بالنشاط الانساني مثل (الحقول الزراعية والطرق، المدن ومكوناتها، المصانع، السدود والقنوات المائية والمراكز التجارية... الخ).



كوردستان:

يتكون هذا المصطلح من مقطعين (كورد-ستان).

كورد: اسم القومية الكوردية، من أصل آري.

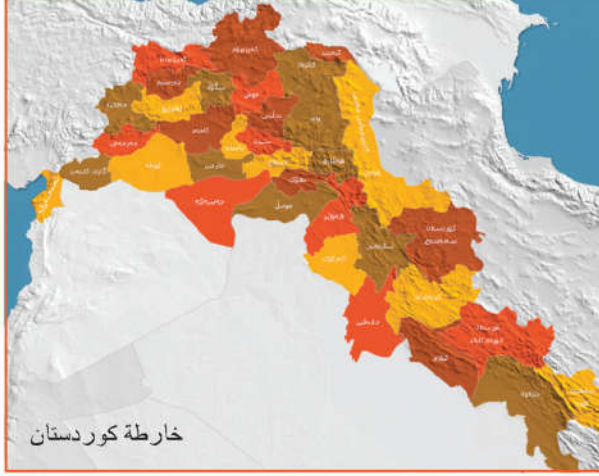
المقطع الثاني: تابع للمقطع الأول ومكمل له ويعني: (الوطن) اي (وطن الكورد)، وأطلقت هذه التسمية على المناطق التي سكنها الكورد ولا تزال، وتعني وطن الكورد.



صور لعدد من الظواهر الطبيعية في كوردستان

موقع كردستان

الوطن الذي نحن نعيش عليه الآن هو (كردستان) يقع جنوب غرب قارة آسيا، تبلغ مساحة جميع اجزائها المقسمة اكثر من (٥٠٠,٠٠٠) كم٢ .



معلومات:

- قسمت كردستان بعد معاهدة لوزان سنة ١٩٢٣م وأشرفت على تقسيمها (عصبة الأمم)، على أربعة دول : القسم الشرقي والذي كان في السابق تحت سيطرة ايران وقد بقيت كما كانت، والقسم الشمالي منح الى تركيا، والقسم الجنوبي ضمَّ الى العراق، أما القسم الجنوب الغربي فقد أُضيف الى سوريا.

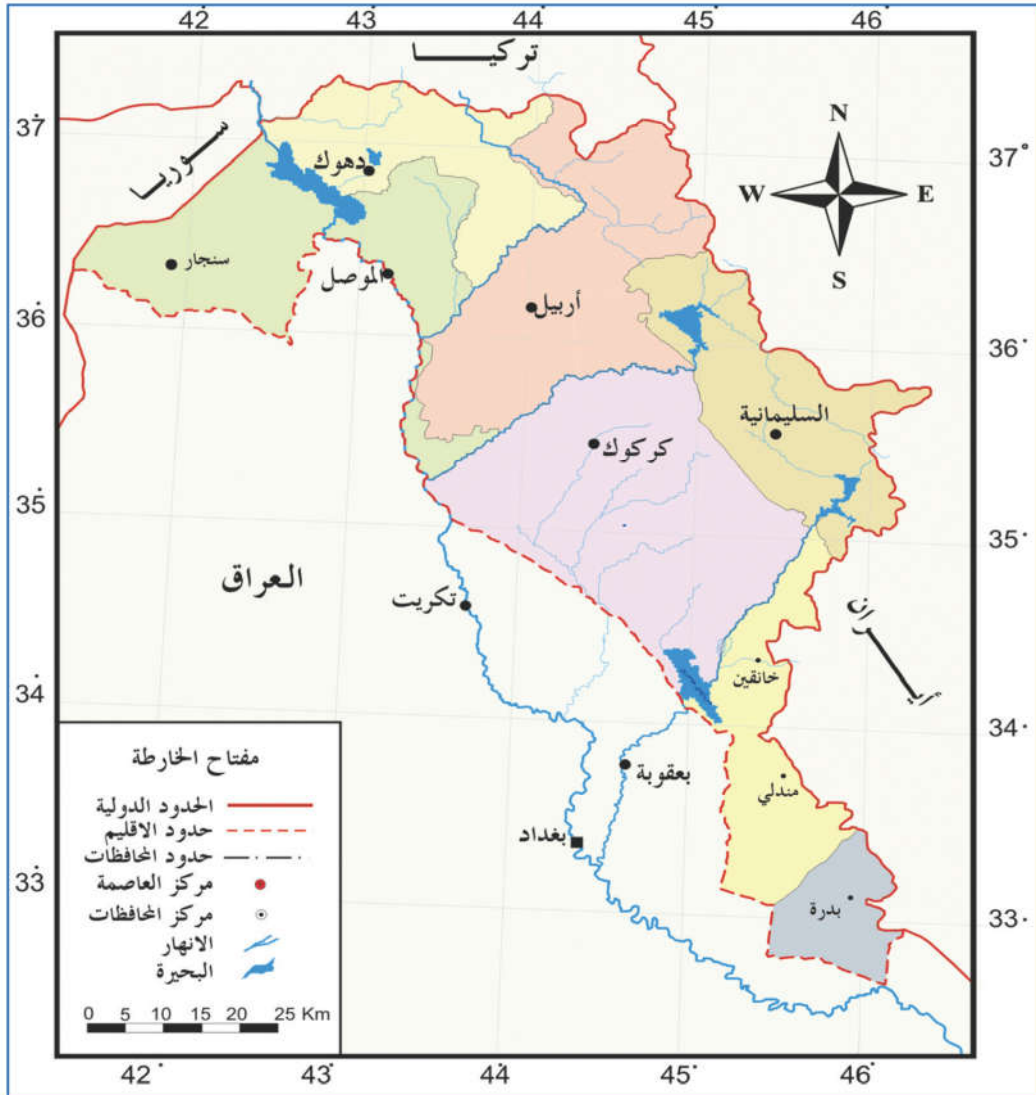


معلومات:

-العالم يتكون من سبع قارات، وهي (آسيا، أفريقيا، أوروبا، أمريكا الشمالية، أمريكا الجنوبية، أستراليا وقارة انتاركتكا (القطبية الجنوبية)).

حدود إقليم كوردستان

يقع إقليم كوردستان في القسم الشمالي والشمال الشرقي من العراق، تفصل مرتفعات حميرين حدودها الجنوبية عن بقية أقاليم العراق الأخرى، وتبدأ هذه المرتفعات من (بدره) الى مضيق (الفتحة) الذي يمر به نهر دجلة، ومنها تمتد مرتفعات حميرين مع امتداد نهر دجلة الى ان تصل الى مدينة (الموصل)، ثم يستمر امتدادها باتجاه قضاء (سنجار) حتى الحدود السورية. يحدّها من الشمال: تركيا ومن الشرق: إيران، وفي الشمال الغربي: دولة سوريا.



خارطة إقليم كوردستان الادارية

مساحة وعدد سكان إقليم كردستان

تبلغ مساحة إقليم كردستان - العراق حوالي (٨٠٠٠٠) ثمانين ألف كم ٢ ، والتي تشكل ١٨٪ من مجموع مساحة العراق الكلية. عدد سكانها أكثر من (٥) خمسة ملايين نسمة.

خصائص إقليم كردستان

- ١- أكثرية سكان الإقليم من الكورد، وهم يعيشون مع التركمان، العرب، الكلدو آشوريين والأرمن.
- ٢- من ناحية الديانة أكثرية سكان الإقليم من المسلمين، وفيه المسيحيون والايديدي.
- ٣- في أرض كردستان كثير من الجبال والسهول، وبعض من هذه الجبال عالية جداً.
- ٤- يختلف مناخ الإقليم عن باقي أقسام العراق، حيث نجده أكثر أمطاراً، ودرجات الحرارة أكثر انخفاضاً.
- ٥- يحتوي على ثروة مائية هائلة كالأنهار والينابيع والشلالات.



منظر لجبل سفين



منظر للزاب الكبير



منظر لمكونات سكان كردستان بالزي القومي

نشاط :

نحن جميعاً (الكورد والعرب
والتركمان والكلدو آشوريين
والأرمن) نعيش معاً. نُحب بعضنا
بعضاً، نعمل متوحدين جميعاً من
أجل مصالح كردستان الوطنية .
الاستاذ المحترم :في ضوء العبارة
المسابقة نظم موضوعاً في التوافق
في العيش سوية.

تمرينات

عزيزي الطالب لزيادة معلوماتك عن وطنك :

- ١- اكتب أسماء عدد من أنهار الأقليم .
- ٢- اكتب أسماء عدد من جبال كردستان العالية .
- ٣- حدّد عدداً من سهول كردستان الخصبة الواسعة .

تمرينات:

س ١- ضع علامة (صح) أمام العبارات الصحيحة وعلامة (خطأ) أمام العبارات غير الصحيحة:

- ١- كوردستان هي الارض التي أغلبية سكانها من الكورد.
- ٢- ارض كوردستان تتكون من الجبال والتلال والسهول.
- ٣- مناخ إقليم كوردستان يشبه مناخ الاقسام الاخرى من العراق.
- ٤- تعيش مع القومية الكوردية في إقليم كوردستان قوميات أخرى.
- ٥- لكوردستان ثروة مائية هائلة.

س ٢- بين حدود إقليم كوردستان مع الدول المجاورة.



صور لعدد من مناظر
كوردستان



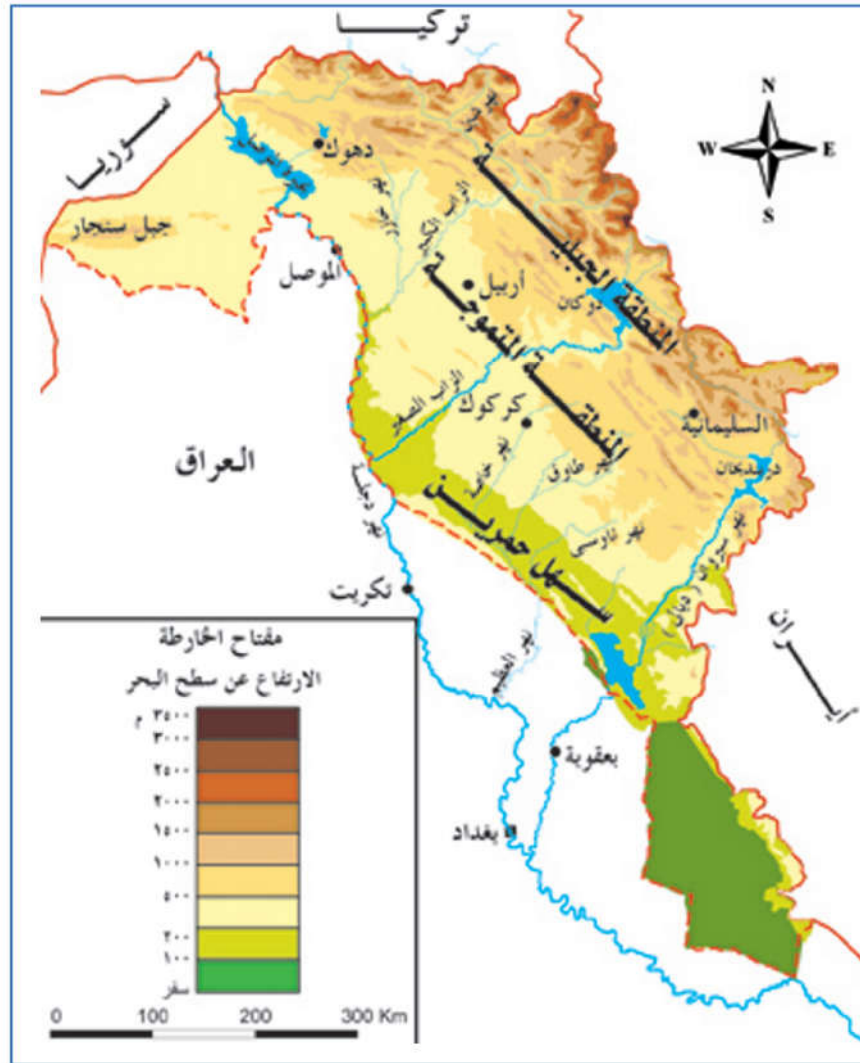
الفصل الثاني

تضاريس إقليم كردستان:

إقليم كردستان من حيث التكوينات الأرضية يحتوي على مظاهر متنوعة من الارتفاعات والانخفاضات.

أولاً: المنطقة الجبلية:

تشكل نسبة مساحة المنطقة الجبلية (٢٥%) من مساحة الإقليم، يبلغ ارتفاع جبال المنطقة الجبلية ما بين (١٥٠٠ - ٣٦٠٠) م فأكثر، وهي تنقسم على سلسلتين جبليتين.



خارطة تضاريس إقليم كردستان - العراق

أ- سلسلة الجبال الشمالية

(الجبال العالية)



قمة جبل هلكورد

تمتد مع امتداد حدود الاقليم مع كل من تركيا وايران ومن أهم جبال هذه السلسلة (ثاشينه، شرانش، زوزان، متين، شيرين، حصاروست، قنديل وهورامان...).

اعلى قمة جبلية ضمن هذه السلسلة هي (قمة هلكورد) التي هي قمة جبل حصاروست إذ يبلغ ارتفاعها ٣٦٠٧ م.

ب- السلسلة الجبلية الجنوبية: (الجبال المنخفضة):



جبل خانزاد

تقع هذه السلسلة جنوب غرب السلسلة الجبلية الشمالية، جبالها أقل ارتفاعاً من السلسلة الشمالية، أهم جبال هذه السلسلة: (جبل بيخير، أبيض، عقرة، سفين، هيبب سلطان، بمو، گلّه زرد وقرداغ...).

تمرينات:

١- اكتب أسماء بعض جبال السلسلة الشمالية (الجبال العالية).

٢- مكونات أشكال سطح الأرض لإقليم كوردستان هي عدة أقسام، اذكر اسم اثنين منها.

٣- أين يقع أعلى قمة جبلية في إقليم كوردستان؟ كم يبلغ ارتفاعها؟



الجبال المنخفضة (باواجي)

أهمية المنطقة الجبلية



١- تتساقط عليها الثلوج والأمطار سنوياً بكميات كبيرة، والتي تصبح مصدراً للمياه الجوفية والسطحية.

٢- بسبب طبيعة المنطقة واعتدال مناخها في الصيف أصبحت مكاناً للأصطياف والسياحة.

٣- كثرة النبات الطبيعي والحشائش جعلت منها مراعي جيدة لتربية الحيوانات.

٤- غنية بالثروات المعدنية الطبيعية المتنوعة، خاصة النفط في عهد حكومة إقليم كردستان تم اكتشاف حقل (تاوكي النفطي) في زاخو.

٥- وديانها تعتبر منطقة مهمة لإنتاج المحاصيل الزراعية.



ثانياً: المنطقة المتموجة (مناطق الهضبات والتلال):



تشكل مساحة المنطقة المتموجة (مناطق الهضبات والتلال) (٧٥٪) من مساحة إقليم كردستان.

تقع هذه المنطقة جنوب، وجنوب غرب المنطقة الجبلية.

إضافة إلى التلال تضم هذه المنطقة عدداً من المرتفعات، من أشهر هذه المرتفعات (حميرين، مكحول، سنجار، مقلوب وكاني دوملان...).

أهمية المنطقة المتموجة:

١- تحتوي على ثروة هائلة من النفط خاصة في مناطق (كركوك، نينوى، هولير وگرميان).

٢- بسبب وجود العديد من السهول الواسعة الخصبة مثل (سهل حميرين، سهل سليفاني، سهل هولير وسهل سنجار تعتبر من المناطق المهمة لزراعة الحبوب (الحنطة والشعير).

٣- بسبب كثرة الحشائش والأعشاب أصبحت فيها مراعي واسعة لتربية الحيوانات.



تمرينات

املا الفراغات الاتية بالكلمات المناسبة:-

- ١- من أشهر مرتفعات المنطقة المتموجة هي..... و.....
- ٢- اكثرية آبار نفط كردستان تقع في..... و..... و.....
- ٣- تُربى الحيوانات في منطقة.....
- ٤- الحشائش ثروة مهمة لتربية..... في المنطقة المتموجة.
- ٥- المنطقة المتموجة تضم العديد من السهول الواسعة مثل.....



نشاطات:

الاستاذ المحترم:- البحث والتنقيب جارٍ الان لاكتشاف الثروة النفطية وضح ذلك للطلاب.
يعرض للطلاب اسماء عدد من الحقول النفطية المستثمرة في عهد السلطة الوطنية لإقليم
كوردستان.

الفصل الثالث

مناخ إقليم كردستان

مناخ الإقليم بشكل عام بارد، ممطر شتاءً وحار جاف صيفاً. فصلا الصيف والشتاء طويلان، درجات الحرارة في الربيع والخريف معتدلة.

المناخ في فصل الشتاء:

يمتاز المناخ في كردستان بالبرودة وهطول الأمطار والثلوج بكثرة، ولكن في بعض السنين يحصل تغير على ذلك. يمتاز الليل بالطول والنهار بالقصر، تنخفض درجات الحرارة في هذا الفصل، بحيث تصل في منتصف الشتاء إلى درجة الانجماد.



معلومات:

يبدأ سقوط الأمطار في إقليم كردستان في نهاية شهر ايلول لغاية نهاية شهر مايس. أكثر نسبة الأمطار الساقطة هي في الشهرين (كانون الاول والثاني) من كل سنة، أما في المناطق الجبلية فتسقط الثلوج التي تصبح المصدر الرئيس للمياه السطحية والجوفية.

مناخ إقليم كردستان في فصل الصيف:

صيف إقليم كردستان يمتاز بارتفاع درجات الحرارة والجفاف (عدم سقوط الامطار) يمتاز النهار بالطول والليل بالقصر بعكس ماكان عليه في فصل الشتاء. الا أن المناطق الجبلية بشكل عام معتدلة، خاصة في (المشاتي) لذا أصبحت هذه المناطق مصائف في الاقليم، لأن الاقسام الجنوبية من الاقليم (گرميان والسهوب) حارة في فصل الصيف.



تمرينات:

- س ١- ضع علامة (✓) أمام العبارات الصحيحة وعلامة (x) أمام العبارات الخاطئة.
 - ١- يبدأ سقوط الامطار في إقليم كردستان في شهر مايس.
 - ٢- يمتاز الصيف بطول الليل وقصر النهار.
 - ٣- يتصف مناخ إقليم كردستان بكونه بارداً وممطراً شتاءً وحاراً جافاً صيفاً.
 - ٤- تتساقط الأمطار سنوياً بكميات متساوية.

نشاطات

لا تتساقط الأمطار سنوياً بكميات متساوية وإنما تتصف بالتذبذب، ويؤثر بشكل فاعل في كثرة وقلة الانتاج الزراعي ومصادر المياه.

الأستاذ المحترم:

وضح هذه العبارة وناقشها مع الطلاب.



بحيرة دوكان



بيخال



سولاف

المصانيف:

وهي الاماكن التي يرتادها المواطنون للأسترخاء والتخلص من حر الصيف مثل (دوكان، بيخال، سولاف...الخ).

الأقاليم المناخية لإقليم كردستان:

يُصنف مناخ إقليم كردستان الى إقليمين:

١- إقليم مناخ البحر المتوسط:

يمتاز هذا الاقليم بكثرة الأمطار والثلوج والبرودة شتاءً والأعتدال صيفاً. يضم هذا الاقليم المنطقة الجبلية في إقليم كردستان.

٢- إقليم مناخ السهوب: يضم هذا الإقليم السهول والتلال، وهو ذو شتاء معتدل وأقل مطراً مقارنةً بمناخ إقليم البحر المتوسط، وصيف هذا الاقليم حار جاف. ينمو في هذا الإقليم الحشائش القصيرة لذا سميت (إقليم مناخ السهوب) لأن شتاءها ليس قارصاً الا ان صيفها حار جداً.

معلومات:

إقليم مناخ البحر المتوسط: مصطلح يطلق على المناطق التي تقع نوعية أمطارها ودرجات الحرارة والرياح فيها تحت تأثير البحر المتوسط.

البحر المتوسط(بحر يقع بين القارات الثلاث(آسيا، أفريقيا، اوربا).

تمريبات:

املا الفراغات الاتية:

- ١- في اقليم كوردستان لا تسقط الامطار في فصل
- ٢- درجات الحرارة في فصل الشتاء.....
- ٣- يمتاز فصل الصيف في إقليم كوردستان بـ الليل و النهار.
- ٤- إقليم مناخ السهوب شتاؤه وصيفه

نشاطات:

تتساقط الأمطار في المناطق الجبلية اكثر مقارنة بالمناطق السهلية.
الاستاذ المحترم: وضح للطلاب سبب اختلاف نسبة تساقط الامطار في المنطقتين.

المعلومات:

عناصر المناخ عبارة عن :
درجة الحرارة، الرطوبة (المطر، الثلج، الحبوب، الغيوم، البخار، الندى، الصقيع) الضغط والرياح.



الفصل الرابع

النبات الطبيعي

النبات الطبيعي: هو النَّبَات الذي يَنْمُو من تلقاء نفسه دون تدخل من الانسان الا أن التأثير المتبادل بين المناخ والتضاريس والتربة يُؤدي الى اختلاف توزيع اقاليم النبات الطبيعي. لذا تنقسم اقاليم النبات الطبيعي في (اقليم كوردستان) على منطقتين:-



النبات الطبيعي في المنطقة الجبلية

١- اقليم النبات الطبيعي في المنطقة الجبلية: تنمو هذه النباتات في القسم الشمالي والشمالي الشرقي من إقليم كوردستان (المنطقة الجبلية). تظهر هذه النباتات على شكل غابات كثيفة. من بين هذه الاشجار (البلوط، الصنوبر، الطرف، الحبة الخضرة، الجوز، السماق...) وشجرة البلوط من أكثر هذه الأشجار انتشاراً.



اقليم الحشائش القصيرة

٢- اقليم الحشائش القصيرة الطبيعية: هذه النباتات من نوع الحشائش القصيرة، تظهر في منطقة التلال والسهول، خاصة بعد سقوط الأمطار في نهاية فصل الشتاء وبداية فصل الربيع.

معلومات:

ان سبب انحسار غابات كوردستان يعود الى ثلاثة عوامل:

- ١- الايادي التدميرية للأنظمة الشريرة السابقة في العراق كان لها تأثير كبير على اباداة ثروة النبات الطبيعي، لذا ولم يُمكن من تعويض الخسائر التي لحقت بهذه الثروة المهمة.
- ٢- تذبذب كمية التساقط التي أثرت كثيراً على النبات الطبيعي.
- ٣- قطع الاشجار اللامحدود من لدن السكان.



اشجار البلوط

أهمية النبات الطبيعي:

- ١- المحافظة على التربة من التعرية.
- ٢- يستعمل كوقود، للتدفئة والطبخ.
- ٣- يستفاد من (ثمار) بعضها كغذاء، وفي صناعة الأدوية.
- ٤- يستعمل في صناعة الاثاث المنزلي.
- ٥- تعطي منظرأ طبيعياً خلاباً لبيئة الاقليم.



نشاطات:

- ١- عندما نذهب في نزهة يجب المحافظة على الغابات الطبيعية.
- ٢- لانلجأ الى قطع الاشجار أو أغصان واللعب بها.
- ٣- لا تُشعل النار عند أسفل هذه الاشجار، لان هذه الغابات تعتبر ثروة وطنية وهي من العوامل الرئيسية لجمال ونظافة بيئة كردستان.

تمريبات

- أجب عن ما يأتي:
- ١- اي نوع من الاثاث المنزلي يصنع من أشجار الغابات؟.
 - ٢- اذكر ثمار ثلاثة نباتات صالحة للاكل.
 - ٣- عندما تذهب في نزهة كيف تحافظ على الشجيرات؟.
 - ٤- بعض نباتات كردستان دائمة الخضرة، اكتب اسم اثنين منها.

الفصل الخامس

مصادر المياه في إقليم كردستان

كوردستان من ناحية مصادر المياه غنية، بسبب الموقع الجغرافي للاقليم وتضاريسه. تنقسم مصادر مياه كوردستان الى ثلاثة أنواع:

١- الامطار والثلوج.

٢- المياه السطحية.

٣- المياه الجوفية.



١- الامطار والثلوج:

تعتبر الامطار والثلوج المصدر الرئيس للثروة المائية مثل (الانهار، البحيرات والينابيع). لأن في كوردستان تسقط سنوياً وفي فصل الشتاء امطار وثلوج كثيرة، كما وتسقط الامطار في فصلي الخريف والربيع أيضاً.

تمرينات

ما فوائد تساقط الامطار والثلوج؟

(للانسان، الحيوانات، الزراعة، الأرض، مياه الانهار والسيول والابار والينابيع).



نهر خابور - زاخو

٢- المياه السطحية:

كوردستان غنية بالمياه السطحية، لأن نهر دجلة يمر بإقليم كوردستان، وتصب فيه الفروع الخمسة وهي (الخابور، الزاب الكبير، الزاب الصغير، العظیم (روخانه) ديالى(سيروان) إضافة الى العديد من مصادر الينابيع في مناطق مختلفة من إقليم كوردستان.

٣- المياه الجوفية :

عبارة عن مياه الامطار والثلوج بعد ذوبانها والتي تنفذ الى الطبقات السفلى من سطح الارض وتتجمع فيها حيث تخرج الى سطح الارض بطريقتين إما بشكل طبيعي مثل (الينابيع والعيون) أو عن طريق تدخل الانسان مثل (الابار والكهاريز).

معلومات:-

قلة تساقط الأمطار والثلوج في المنطقة الجبلية لها تأثير فعّال في المياه الجوفية، لأن المسامات والشقوق الموجودة في سطح الارض تسمح بنفاذ كمية كبيرة من المياه في الطبقات السفلى والتي تكون المياه الجوفية.

مشاريع السيطرة

والخزن في إقليم كردستان:

١- سد دوكان: أنشئ على الزاب الصغير في محافظة السليمانية. والسعة الكلية للخزن تبلغ ٦,٨ مليار (٣م) من الماء.

٢- سد دربندخان: أنشئ على نهر سيروان (ديالى) في محافظة ديالى. والسعة الكلية للخزن تبلغ ٣ مليار (٣م) من الماء.

خارطة مصادر المياه



٣- سد حميرين أنشئ على نهر سيروان (ديالى) في محافظة ديالى أيضاً. والسعة الكلية للخزن تبلغ ٢,٥-٣,٢ مليار (٣م) من الماء.

٤- سد دوز: أنشئ على الزاب الصغير في محافظة كركوك. لغرض التنظيم والتحكم بانسياب المياه، بشكل يساعد على رفع المياه في مقدمته بهدف توجيه المياه إلى الجداول الفرعية الواقعة على ضفتي النهر.

٥- سد أسكي موصل: أنشئ على نهر دجلة في محافظة نينوى. والسعة الكلية للخزن تبلغ (٨,٧) مليار (٣م) من الماء.



سد دوكان

فوائد السدود:

- ١- لإنتاج الطاقة الكهربائية.
- ٢- للسياحة والنزهة والاصطياف.
- ٣- لأنقاذ المدن من خطر الفيضان.
- ٤- لخبزن المياه واستعمالها للارواء الزراعي عند حدوث الجفاف.
- ٥- لتربية الثروة السمكية.



تمرينات

س١- ضع علامة (✓) أمام العبارات الصحيحة وعلامة (x) أمام العبارات الخاطئة.

- ١- مصادر المياه السطحية في كردستان قليلة.
 - ٢- أنشئ سدّ دوكان على الزاب الكبير.
 - ٣- الهدف من إنشاء السدود هو لإنتاج الطاقة الكهربائية فقط.
 - ٤- نهر العظیم ينبع من داخل إقليم كردستان.
- س٢- املأ الفراغات الآتية:
- ١- أنشئ سدّ دوبرز على نهر
 - ٢- للأمطار أهمية كبيرة لـ في فصل الشتاء.
 - ٣- أنشئ سدّ على نهر دجلة.
 - ٤- تتكون مصادر المياه الجوفية والسطحية من

نشاطات:

- ١- عند تساقط الأمطار في فصل الشتاء تتعرض مدينتك الى مشاكل مثل ماذا؟
- ٢- للمحافظة على بيتك حاول مع أصدقائك تشخيص النواقص والمشاكل، وإيجاد الحلول لها.

الفصل السادس

الجغرافية البشرية سكان الإقليم وأهم مدنه:

السكان:-

سكان إقليم كردستان أكثر من خمسة ملايين نسمة يسكنون في المدن والقصبات والقرى في محافظات (هولير، السليمانية، كركوك، دهوك وقسم من محافظة الموصل وديالى). سكان المدن يعملون في حرف متنوعة مثل (التجارة، الصناعة، الاعمال اليدوية، إضافة الى العمل في الدوائر الحكومية).



القرية

أهم مدن إقليم كردستان: هولير (أربيل):

مدينة تاريخية مشهورة وهي عاصمة إقليم كردستان، سكانها أكثر من مليون نسمة، تقع في سهل واسع وهي المركز الإداري لمؤسسات حكومة إقليم كردستان، تشتهر بالتجارة والصناعة والمنتجات الزراعية مثل (الحنطة والشعير وتربية الحيوانات) في السنوات الأخيرة تم اكتشاف كميات كبيرة من النفط الذي عزز مكانة هولير وكوردستان الاقتصادية كما يحتوي على آثار تاريخية مثل القلعة والمنارة وتل قاليح آغا.



هولير - أربيل



هولير - أربيل



السليمانية

السليمانية:-

مدينة مهمة في كردستان، تقع في القسم الشرقي للاقليم يبلغ عدد سكانها أكثر من مليون نسمة. تعتبر مركزاً تجارياً وصناعياً وثقافياً وادارياً مهماً. تشتهر بالمعادن المتنوعة أنشئت فيها عددٌ من المعامل لإنتاج الأسمنت مثل معمل سميت في بازيان وطاسلوجة. تشتهر بعددٍ من السهول كسهل شهرزور ورائية والتي تشتهر بإنتاج القمح والتبغ وعباد الشمس والفواكه المتنوعة. وتعتبر الان العاصمة الثقافية لاقليم كردستان.



السليمانية

كركوك:

مدينة تاريخية ومركز اقتصادي مهم جداً، تعتبر اغنى منطقة انتاج للنفط في كردستان والعراق. أكثرية سكانها من الكورد، يعيشون معهم التركمان والعرب والكلدو آشوريين. يقع سهل كركوك في هذه المحافظة وهو سهل واسع وخصب يشتهر بإنتاج الحنطة والشعير والقطن.




كركوك



كركوك

دهوك :-

مدينة مهمة ولها موقع جغرافي ملائم، نظراً لقربها من الحدود التركية أصبحت بوابة الاقليم والعراق للتجارة مع تركيا والدول الاجنبية.
تعتبر منطقة سياحية مهمة حيث يرتادها سنوياً الكثير من السواح. ومن الناحية الزراعية تشتهر بانتاج مختلف أنواع الفواكه.



معلومات :

لإعادة أعمار القرى وزيادة إنتاج المحاصيل الزراعية والثروة الحيوانية تقوم حكومة إقليم كردستان بصرف السلف المالية للقرابين.

تمريبات

س ١- ضع علامة (✓) أمام العبارات الصحيحة وعلامة (x) أمام العبارات الخاطئة.

- ١- ساعدت حكومة إقليم كردستان في إعمار القرى.
 - ٢- تشتهر مدينة كركوك بمعدن النفط.
 - ٣- في عهد النظام البعثي تعرضت أكثرية القرى للتدمير.
 - ٤- تعتبر مدن كردستان اسواقاً لبيع وشراء المنتجات الزراعية المحلية.
- س ٢- املأ الفراغات الآتية:
- ١- هي عاصمة إقليم كردستان.
 - ٢- مدينة كركوك غنية ب.....
 - ٣- تقع دهوك قرب الحدود.....
 - ٤- تقع حلبجة في محافظة والتي تعرضت للقصف الكيماوي من لدن النظام السابق في العراق الذي استخدم هذا السلاح ضد الشعب الكردي.



خارطة العراق الإدارية

نشاط

ضع هذه المدن على خارطة العراق:
(السليمانية، كركوك، هولير، دهوك، ديالى، الموصل).

معلومات:-



بَعْدَ الانتفاضة العظيمة لشعب كردستان عام ١٩٩١
شهد إقليم كردستان حركة اعمار وتنمية كبيرة تمثلت في
بناء الجسور ومد الطرق وبناء العمارات الضخمة
والمدارس والمستشفيات و اعمار القرى التي هُدمت.

النشاطات الاقتصادية لسكان إقليم كردستان

اولاً- الزراعة:

حِرْفَة قديمة وهي الحرفة الرئيسية لسكان إقليم كردستان، كانت كردستان مركزاً لظهور الزراعة واستقرار الانسان فيها، مناخها الملائم ووفرة خصوبة تربتها، (قرية جرمو) هي احدى الظواهر البارزة وآثارها باقية لحد الان، تقع شرق محافظة كركوك ومنها انتشرت حرفة الزراعة الى العالم.

وتشمل الزراعة الاصناف التالية:

١- الحبوب:

أ- القمح من المحاصيل الشتوية تزرع في نهاية الخريف ويبدأ الحصاد في نهاية شهر آيار (مايس) وبداية حزيران.

يُزرع القمح بشكل ديمي (اعتماداً على الامطار) في معظم مناطق كردستان، ولتذبذب تساقطه يؤثر في نسبة الانتاج ففي السنوات (٢٠٠٦-٢٠١٢) لحقت اضرار جسيمة بالفلاحين نتيجة للجفاف المخيف الذي شمل الاقليم.

أ- تُزرع الحنطة في إقليم كردستان ولها عدة أنواع مثل (القندهاري، رَشْغُول، گولروت، مكسيياك، الربيعي... الخ).

ب- الشعير: مثل (الحنطة) من المحاصيل الشتوية وهما يُزرعان في نهاية فصل الخريف ويبدأ الحصاد في نهاية فصل الربيع.

الا ان الشعير يختلف عن الحنطة اذ يتميز الشعير بأنه يتحمل قلة الامطار وينمو في التربة المالحة والاقل خصوبة ويعتبر المادة الاساسية لعلف الحيوانات ويدخل في بعض الصناعات.





القمح



الحصاد

تمرينات

س ١:- أجب عن الاسئلة الاتية:

١- ما المصدر الرئيسي لغذائنا اليومي؟

٢- ما فوائد القمح والشعير؟

٣- على أي شيء يعتمد علف الحيوانات؟

س ٢:- املأ الفراغات الاتية:

١- القمح(الحنطة والشعير) من المحاصيل..... يزرع في نهاية فصل ويبدأ الحصاد في
نهاية فصل.....

٢- هناك عدة أنواع من القمح منها..... و و

معلومات:-

يضم إقليم كردستان العديد من السهول مثل (سهل حميرين، شهرزور، سهل هولير، بيتوين، السندي...)

ج- الرز: من الماصيل الصيفية، يحتاج الى درجة حرارة عالية ومياه وفيرة. يعتبر الرز الغذاء الرئيسي لسكان إقليم كردستان والعراق. يزرع الرز في إقليم كردستان في بازيان وعقرة وحرير والعديد من



صورة لحقل ذرة

الأماكن الأخرى والتي فيها مياه وفيرة. و- الذرة: من المحاصيل الصيفية، وهي نوعان (البيضاء والصفراء) تزرع في معظم محافظات الاقليم عن طريق الري، وتُستعمل كعلف للدواجن والحيوانات كما تدخل في بعض الصناعات وخاصة الزيوت.

تمرينات

- ١- الذرة نوعان هما و
- ٢- زراعة الرز تحتاج الى وفيرة
- ٣- مناطق زراعة الرز في إقليم كردستان كثيرة مثل (..... و) .
- ٤- يُصنع علف الدواجن والحيوانات على الأكثر من و



الذرة



الرز

٢- الخضروات والفواكه:

أ- الخضروات: من حيث الأهمية تأتي بعد الحبوب، وتعتبر الغذاء الرئيسي للإنسان وتوضع يومياً على

المائدة.

هنالك نوعان من الخضروات:-

١- الخضروات الصيفية:

تشمل المحاصيل التي تنضج في فصل الصيف مثل (الطماطم، الباميا، الخيار، الرقي، البطيخ... الخ).

أما في الوقت الحاضر، وبسبب التطور العلمي، فإن بعض المحاصيل تنتج في جميع فصول السنة، لزراعتها في البيوت الزجاجية مثل (الطماطم، الخيار، الفلفل، و الباذنجان... الخ).

٢- الخضروات الشتوية:

تنضج هذه الأنواع من المحاصيل في فصل الشتاء مثل (الشلغم، البنجر، الكاهو، القرنابيط، والفجل والسلق... الخ).

ب- الفواكه:

اشتهرت كردستان منذ القديم بالفواكه، ومن الفواكه المشهورة في هذه المنطقة (العنب، التفاح، التين، الرمان، العرموط، الاجاص، الخوخ، الجوز واللوز... الخ). أكثر فواكه كردستان تنضج في فصل الصيف.

تزرع الحمضيات في كردستان وخاصة في مقدمات سهول السهوب في مدن (خانقين و مندلي) مثل (البرتقال والليمون، وال نارنج والترنج... الخ).

نشاط

في فصل الشتاء نجد المحاصيل (الصيفية في الاسواق)

الاستاذ المحترم:

وضح للطلاب سبب هذا التغير وفوائد البيوت البلاستيكية في مجال الزراعة.



٣- المحاصيل التي تدخل في الصناعة:

بعض المحاصيل الزراعية لا يستطيع الانسان الاستفادة منها مباشرة بل يستفيد منها بعد ان تدخل في الصناعة وهذه المحاصيل مثل:

معلومات:-

بسبب التطور الصناعي في الوقت الحاضر تدخل الكثير من المحاصيل الزراعية ومنها الحبوب في الصناعة الغذائية و التعليب.



القطن

معلومات:-

منذ سنة (٢٠٠٠م) وما بعدها لم يبق للتبع ذلك الدور الاقتصادي المهم للاقليم بسبب انخفاض القدرة الانتاجية لمعامل صناعة السكر، كونه غير قادر على منافسة الاسواق العالمية، لعدم اجراء التسهيلات اللازمة لغرض تصديرها في مجال التجارة.

١- القطن:

من المحاصيل الصيفية، وله فوائد عديدة، فتستخدم في صناعة المنسوجات، وتستخدم بذوره لانتاج الزيت، كما ان سيقان واوراق نبات تستخدم كعلف حيواني. وفي كوردستان تشتهر محافظة كركوك بانتاج القطن.

معلومات:-

اجود أنواع القطن: قطن ناصع البياض طويل التيلة، يُزرع في المناطق الحارة.

ب - عبّاد الشمس :-



من المحاصيل الصيفية ، يُزرع على الاكثر في سهول بيتوين وبشدر ومناطق متفرقة أخرى في إقليم كردستان .
أهمية عبّاد الشمس تدخل في صناعة الزيوت النباتية ويستفاد من مخلفاتها لعلف الحيوانات.

معلومات :-

اكثرية انتاج عبّاد الشمس تُصدّر الى خارج الاقليم لعدم وجود معامل صناعة الزيوت في إقليم كردستان ويستعمل القسم منه في الاستهلاك المحلي.

ج - السمسم :-

وهو ايضاً من المحاصيل الصيفية، يستعمل لأغراض عديدة منها(الغذاء، صناعة الحلويات، استخراج الزيوت...الخ).

د - محاصيل العلف :-

الجت والبرسيم وهما من العلف الأخضر للحيوانات وبعد جفافهما تعطى للحيوانات مباشرة ويزرعان في المناطق الاروائية وخاصة حول المدن إضافة الى هذين المحصولين يستعمل الشعير ايضاً كعلف للحيوانات.



السمسم



العلف الطبيعي

٢- الثروة الحيوانية



الحيوانات التي تُربى في إقليم كردستان

هي:

١- الأغنام:

من الحيوانات المهمة في إقليم كردستان والأغنام الكوردية معروفة بلونها الأبيض وأصوافها الطويلة الخشنة، يستفاد من حليبها في منتجات كثيرة مثل (اللبن، الجبن...) وكذلك يستفاد من لحومها وأصوافها.

تشتهر سهول هولير وحميرين ومناطق السليمانية ودهوك بتربية الاغنام.

٢- الماعز:

حيوان يستطيع العيش في السهول والجبال والمراعي قليلة الاعشاب. بسبب قدرته على الحركة السريعة والحصول على غذائه، يُقاوم الأمراض، ويستفاد من حليبها ولحومها وشعرها.

٣- الأبقار:

الابقار من الحيوانات التي يستفاد من حليبها ولحومها وجلدها. ان إقليم كردستان موقع ملائم لتربية الابقار، خاصة في السهول ووديان المنطقة الجبلية بسبب وفرة الاعشاب والحشائش الطويلة.



تمرينات

س ١: املأ الفراغات الآتية:

- ١- للشعير فوائد كثيرة ويستعمل لـ..... و.....
- ٢- الذرة من حيث موسم زراعتها من المحاصيل.....
- ٣- تأتي محافظة..... بالمرتبة الاولى في زراعة التبغ.
- ٤-..... حيوان يستطيع العيش في السهول والجبال.
- ٥- للاغنام فوائد كثيرة، يُستفاد من..... و.....
- ٦- يساهم السمسم في الصناعة واستخراج..... و.....

س ١- ضع علامة (✓) أمام العبارات الصحيحة وعلامة (x) أمام العبارات الخاطئة.

- ١- ظهرت الزراعة لأول مرة في كردستان.
- ٢- يُزرع عباد الشمس في معظم مناطق الإقليم.
- ٣- يستعمل التبغ في صناعة السكاير.
- ٤- يدخل القطن في صناعة الغزل والنسيج.
- ٥- حشائش (الجت والبرسيم) بعد تجفيفها تعطى للحيوانات.
- ٦- الأبقار من أكثر الحيوانات انتشاراً في إقليم كردستان.
- ٧- الرز من المحاصيل الشتوية.



الابقار

ثانياً- الثروة المعدنية والصناعة في إقليم كردستان

١- الثروة المعدنية:

كوردستان من حيث وجود الثروة المعدنية غنية وتحتوي على أنواع من المعادن . وتمت الاستفادة من بعضها وتستخدم في الوقت الحاضر الا ان بعضها لم يستفد منه نظراً لعدم استخراجها لحد الان.

اهم الثروات المعدنية في إقليم كردستان هي:

أ- النفط:

عُرفَ النفط في إقليم كردستان منذ فترة بعيدة وتم اكتشافه والبدء باستخراجه منذ سنة (١٩٢٧م) في باباگورگور في مدينة كركوك لغرض تجاري (التصدير).

حقول النفط في الإقليم عبارة عن:

- ١- حقل (باباگورگور، باي حسن، جمبور) في محافظة كركوك.
- ٢- حقول (عين زالة، بطمة) في محافظة نينوى.
- ٣- حقل نفط (نفط خانة) في خانقين.
- ٤- حقول نفط (شيواشوك) في طق في محافظة هولير.
- ٥- حقل نفط (تاوكي) في زاخو في محافظة دهوك.



خارطة الثروة الطبيعية لاقليم كردستان

معلومات:



محطة كهرباء بيرداود (هولير)

في عهد حكومة الإقليم تم إجراء البحث والتنقيب لأكتشاف واستخراج النفط. تمكنت حكومة الإقليم من استخراج النفط في حقول (شيواسوك في طق طق) و (تاوكي في زاخو). في ١/٦/٢٠٠٩ بدأ تصدير النفط الى الخارج عن طريق الأنبوب المُصدر للنفط العراقي. اضافة الى وضع لاجر الاساس لعدد من مصافي النفط في (بازيان، خبات) في حالة إكمالها من الممكن سد جزء من حاجة الإقليم من الوقود.

ب- الغاز الطبيعي:

وهو متوفر في المناطق النفطية ويستخرج مع النفط إضافة الى وجود حقول خاصة بالغاز الطبيعي في كردستان.

معلومات:-

- ١- مشروع تصدير الغاز الطبيعي من كردستان الى الدول الاوربية قيد الدراسة عن طريق تركيا، فيه تعزيز لمكانة إقليم كردستان الاقتصادية والسياسية.
- ٢- لتوفير الخدمات للمواطنين قامت حكومة الإقليم بمشاركة القطاع الخاص بإنشاء مشاريع عملاقة لإنتاج الطاقة الكهربائية، والتي تعمل بواسطة الغاز الطبيعي وزيت الغاز (كاز اويل). يتم نقل الغاز الطبيعي بواسطة أنابيب إلى محطتي كهرباء (١٠٠٠ ميغا واط) اربيل ومحطة كهرباء (١٠٠٠ ميغا واط) السليمانية. وإضافة إلى ذلك تم إنشاء محطة كهرباء دهوك (٥٠٠ ميغا واط) والتي تعمل بواسطة زيت الغاز، مع محطة كهرباء باعدري (١٧٠ ميغا واط).

تمرينات

س١- ضع علامة (✓) أمام العبارات الصحيحة وعلامة (x) أمام العبارات الخاطئة.

- ١- الثروة المعدنية في إقليم كردستان كثيرة.
- ٢- النفط معدن مهم.
- ٣- يأتي الغاز الطبيعي لمحطة اربيل ذات الطاقة الانتاجية الـ(١٠٠٠) ميغاواط من حقول چمچمال الغازية.
- ٤- استثمار حقل نفط (تاوكي) في زاخو من منجزات حكومة إقليم كردستان.
- ٥- تقع حقول نفط باباگورگور في محافظة نينوى.
- ٦- تقع محطة كهرباء الـ(١٠٠٠) ميغاواط السليمانية في جمجمال.

٢- الصناعة في إقليم كردستان

الصناعة: عبارة عن عملية تحويل المواد الأولية الى مواد مصنوعة.

منذ القدم كان سكان إقليم كردستان يشتغلون بالحرف اليدوية المتنوعة من أجل توفير حاجياتهم اليومية مثل حرفة الغزل والنسيج (لصنع الزوالي والسجاد...الخ)، وكذلك حرفة صناعة الاحذية والملابس والجواريب والفخار وأشياء اخرى..



مصنّى خورملا في اربيل

واليوم ورغم التقدم الصناعي العظيم الذي يشهده العالم فإقليم كردستان محروم منها الى حد كبير ماعدا بعض المعامل الصغيرة الموجودة في مدن كردستان ويرجع السبب الى تصرفات الانظمة السابقة في العراق التي أهملت المنطقة من ناحية التنمية الصناعية.

نشاطات:

كيف نستطيع ان نُنمّي الصناعة في إقليم كردستان.
حضرة الاستاذ الفاضل ساعد طلبتك لتشخيص عوامل التنمية الصناعية في إقليم كردستان.

تمريّات

- ١- لماذا تُعتبر كردستان متخلّفة من الناحية الصناعية؟
- ٢- ما نوع الحرف اليدوية الاكثر انتشاراً في كردستان؟

معلومات:

- أهم المؤسسات الصناعية في إقليم كردستان هي :
- ١- معمل اسمنت طاسلوجة وبازيان في السليمانية وليلان في كركوك.
 - ٢- صناعة تكرير النفط في كركوك.
 - ٣- معمل الالبسة الجاهزة في السليمانية ودهوك.
 - ٤- معمل المشروبات الغازية في هولير.
 - ٥- معمل الغزل والنسيج في كركوك وكفري.
 - ٦- معمل الرخام في هولير والسليمانية.
 - ٨- معمل القضبان الحديدية في هولير.
 - ٩- معمل المياه المعدنية في هولير، والسليمانية، وزاخو وعقرة.



الصناعة اليدوية

الفصل السابع

السياحة

مناخ اقليم كردستان وطبيعته الخلابة لهما من مناظر جذابة للجبال والوديان والعيون والينابيع والشلالات والمراكز الدينية والاثار التاريخية من الأسباب الرئيسية لجعل الاقليم منطقة سياحية مهمة لسكان المنطقة خاصة وسكان المناطق الأخرى من العراق عامة حيث يقصدها السواح من اقطار مختلفة سنوياً للراحة والاستجمام حيث هناك العديد من المصايف والاماكن الصالحة في كردستان.



خارطة إقليم كردستان السياحية



شلال گلي علي بك

المناطق السياحية في الاقليم تتوزع على الشكل الاتي:

أولاً- المصايف واماكن تساقط الثلوج:

- 1- مصايف محافظة هولير: (شكلاوة، گلي علي بك، بيخال جنديان....).
- 2- مصايف محافظة السليمانية: (سرچنار، دوكان، دربندخان، احمدوا، طويله، بيارا، قرداغ وأزمير...).

٣- مصايف محافظة دهوك: (سرسنگ، سواره توکا، زاويتا، سولاف، ئاشاوا وئانیشکي...).



سدرچنار



احمد او/سليمانية



مصيف سولاف

ثانياً: الاماكن الاثرية:

قلعة هولير والمنارة، (كهف شاندر، كهف هزار ميرد، الذي وجد فيه بقايا انسان النياندرتال)، قلعة شيروانه في كلار وحفريات خنس في الشيخان وقرية جرمو في چمچمال وآثار بكر او في حلبجة وعشرات الاثار الاخرى التي جعلت كردستان منطقة سياحية.



قلعة العمادية



قلعة شيروانه

ثالثاً: المراكز الدينية:

في كردستان كثير من مرافد الأئمة والمعابد والاماكن الدينية المختلفة يزورها المواطنين كالجامع الكبير في السليمانية (كاك أحمد الشيخ)، معبد (لالش) و(شيخ عدي) وهي من المراكز المقدسة للايزيدين، (دير مارماتي) في جبل مقلوب، (دير ربن بويبا) في شقلاوة، (مرقد مريمانا في عينكاوه) و(النبى دانبال) في كركوك و(بيري شاليار) في هورامان والعديد من المراكز الاخرى.




راهيتان:

س ١- ضع علامة (✓) أمام العبارات الصحيحة وعلامة (x) أمام العبارات الخاطئة.

- ١- المناخ وطبيعة كردستان هما وهدما من العوامل الرئيسة لخلق السياحة في كردستان.
- ٢- شقلاوة من الاماكن السياحية المهمة من حيث الأصطياف والمراكز الدينية.
- ٣- لالش معبد مقدس للايزيدين.
- ٤- المكونات الطبيعية والاثار القديمة والمراكز الدينية في إقليم كردستان من عوامل خلق سياحة مريحة.



التأريخ القديم والوسيط



التاريخ القديم والوسيط

التاريخ: سجل الاحداث الانسانية في العهد القديم. يبحث عن الاحداث الماضية.

مراحل التاريخ:

التاريخ القديم والوسيط
التاريخ الحديث والمعاصر

الفصل الاول


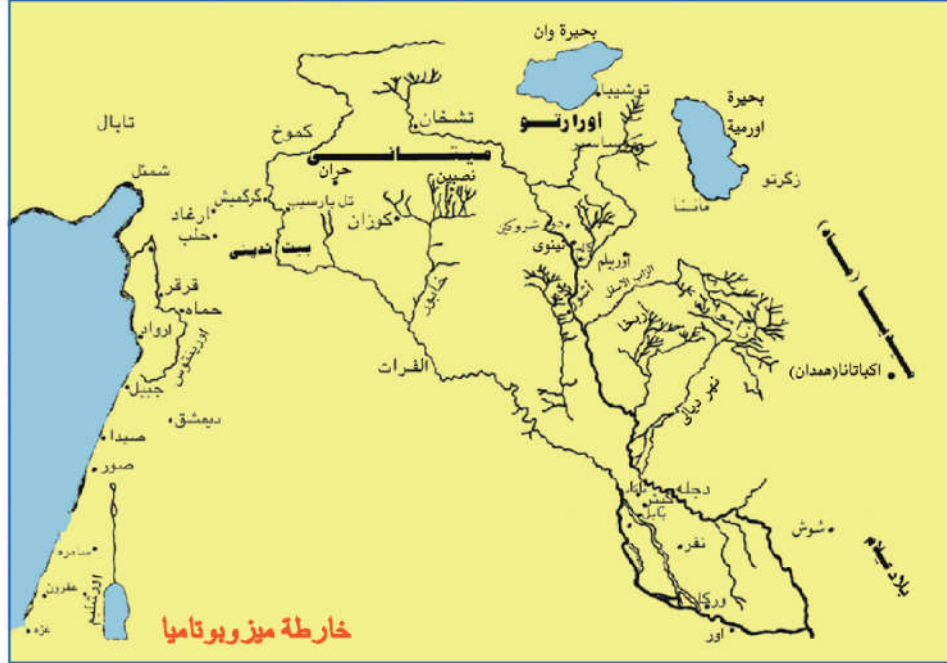
تأريخ كردستان القديم

١- كردستان القديمة

كان العراق ومعظم كردستان يسمى قديماً بـ (مِيزوبوتاميا) (وادي الرافدين) لأن نهري دجلة والفرات يمران فيه ويرويان أراضيه فأصبحا بذلك مصدراً لأستقرار الانسان والحياة وبناء أقدم الحضارات في تأريخ الانسانية.



يعد شمال وشرق وادي ميزوبوتاميا (كوردستان) مهد الحضارات. لأن الإنسان البدائي عاش في الكهوف وسفوح جبال زاغروس، معتمداً في حياته اليومية على الطبيعة، وكان يقوم بجمع الحبوب وثمار الأشجار لتأمين قُوته، كما كان يقوم بصيد الطيور والحيوانات البرية، يستفيد من لحومها كغذاء ويقوم بأرتداء جلودها. وللحفاظ على نفسه من برودة الشتاء والحرارة والحيوانات البرية التجأ الإنسان الى الكهوف، ثم تغيرت حياته تدريجياً، حين اكتشف النار وأستعملها لفائدته.



منظر لأنسان قديم

هؤلاء الناس أنفسهم أنحدروا من الجبال والكهوف تدريجياً نحو التلال والسهول وضاف الأنهار.

صنع الانسان الالات والأدوات المتنوعة من الحجر واستعملها لأنجاز اعماله اليومية وللصيد. ثم قام بتربية الحيوانات البرية، خاصة الكلاب لغرض الحراسة ثم تعلم الإنسان الزراعة وتمكن من انتاج الحبوب وبناء القرى والمدن والمعابد وتطوير الحضارة، هناك أمثلة شاهدة على ذلك في كوردستان. أهمها قرية (جرمو) التي تقع قرب جمجمال حيث مارس الإنسان فيها الزراعة.

ان بناء البيوت وإنشاء القرى ساعد الانسان على الاستقرار وتربية الحيوانات.
هناك مثال آخر في سنة (١٩٨٥) تم اكتشاف قرية (نمركي) في جنوب مدينة دهوك من قبل مجموعة
بولندية، يرجع تاريخها الى (٨٥٠٠) سنة قبل الميلاد. وبالقرب من مدينة ناماد(ديار بكر) تم اكتشاف قرية (غو
كتبة) التي يرجع تاريخها الى (٩٨٠٠ - ٨٥٠٠ قبل الميلاد)، وكذلك كهف (خانزاد) في (حرير) المعروف بملجأ
الانسان القديم قبل اكثر من (١٠) عشرة آلاف سنة.



كهف خانزاد(حرير) كان ملجأ
للانسان القديم

تمريبات:

كان الانسان القديم يقوم باصطياد الحيوانات البرية لغرض الاستفادة منها في المجالات الاتية:

- ١-
- ٢-
- ٣-

نشاطات:

اكتشاف النار يعتبر تحوُّلاً مهماً في التاريخ، لأنه رأى أن للنار فوائد كثيرة منها:

- ١-
- ٢-
- ٣-

٢- بعض الاماكن الاثرية القديمة في كردستان :

لوقمنا بجولة في ربوع كردستان لوجدنا أنها مليئة بالأماكن الأثرية والمخلفات القديمة مثل الكهوف والتلال والقلاع والأسوار والجسور ومثل الرسوم المنحوتة على الأحجار والجبال... الخ التي تُظهرُ جميعها حضارة أجدادنا، ومن بين هذه الآثار أُكتشفتُ عظام الانسان والحيوانات وبقايا من القمح والشعير والالات والادوات المتنوعة المستخدمة في الصيد والزراعة والأعمال اليومية البيئية، وهذه تمهد لنا الطريق الى معرفة نوعية وشكل الحياة اليومية والمهارة الفائقة التي كانت لأجدادنا.



آثار جبل نمرود

بعض الاماكن الاثرية القديمة في كردستان :

أ- كهف شاندر:

يقع هذا الكهف شمال أربيل في قضاء ميرغة سور في القسم الجنوبي من جبال برادوست على الزاب الكبير.

في هذا الكهف تم اكتشاف عظام انسان (النياندرتال) وكان من بينها عظام لأطفال رُضع، يرجع تاريخها الى (٧٥٠٠٠-٤٥٠٠٠) سنة قبل الميلاد حيث دُفن الأنسان مع العديد من الاتال الزراعية. انسان النياندرتال من أقدم انواع البشر، سمي بهذا الاسم نسبة الى وادي نياندرتال في المانيا التي اكتشف فيها لأول مرة بقايا هذا الانسان من العظام.



كهف هزار ميرد



كهف شاندر

ب- كهف هزار ميرد:-

يقع هذا الكهف على بعد (١٣) كم في الجنوبي الغربي من مدينة السليمانية. في نهاية جبل برانان. اضافة الى هذا الكهف هنالك سبعة كهوف اخرى، وفي احدى هذه الكهوف اُكتشِف العديد من المواد والالات المصنوعة من الحجر وكذلك عظام تعود الى انسان النياندرتال.



ج- نوزي:-

احدى الاماكن الاثرية في كردستان تقع جنوب غرب كركوك وتعرف الان (يورغان تبة)، والذي اُكتشف فيه مخلفات العديد من العصور التاريخية القديمة المختلفة، خاصة الهورييون (الخوريون) وهم شعب قديم في كردستان أسسوا فيما بعد دولة ب(اسم الدولة الميتانية).




مجموعة لعدد من المواد في مكان اثرى (النوزي)

الفصل الثاني

الاقوام القديمة في كردستان

كوردستان القديمة تشمل سلسلة جبال زاغروس وشرق وشمال ميزوبوتاميا، عاش فيه العديد من الاقوام من أجداد الكورد.

من هذه الشعوب والاقوام:- (السوباريون، اللولويون، الكوتيون، الكاشيون، الماديون والكاردوخيون) نذكر أدناه بعضاً منهم:



١- اللولويون: احدى أقدم أقوام كردستان وهم في الاكثر استقروا في مناطق من محافظة السليمانية الحالية. تعرضت منطقتهم عدة مرات للحملات الأكديّة الى أن تمكن الأكديون من الانتصار على اللولويون برئاسة (نرام سين).

دُون هذا الانتصار على مسلة حجرية يبلغ ارتفاعها مترين (دربند غاور) في جبل قرداغ. تعرف هذه المسلة (بمسلة النصر) وهي محفوظة الان في متحف اللوفر في باريس في فرنسا.

الا ان هذه الحال لم تدم طويلاً فقد قام اللولويون بتنظيم صفوفهم تحت قيادة الملك (ثانوبانيتي) وتمكنوا من الانتصار على الأكديين.

كان اللولويون اصحاب خبرة في مجال صنع التماثيل والنحت وفن البناء.

٢- الكوتيون: وهم من الاقوام القديمة الاخرى في كردستان. كانوا غالباً يعيشون في المناطق الواقعة بين

الزاب الصغير ونهر سيروان. عاصمتهم كانت باسم (اربخا) وهي تمثل مدينة كركوك الحالية.

تعرضت مناطقهم لهجوم الأكديين ولمرات عديدة الا أنهم تمكنوا من الوقوف بوجههم، بل تمكنوا من اسقاط الدولة الاكديّة. وسيطروا لفترة اكثر من قرن على بلاد سومر وأكد جنوبي ميزوبوتاميا).

حكم - خلال هذه الفترة- واحد وعشرون ملكاً.



(اربخا) مدينة كركوك

٣- الكاشيون:-



صورة عقرقوف

وهم من الاقوام القديمة في كوردستان كانوا يعيشون في مناطق كرمناشاه ولورستان الحالية شرق كوردستان، ثم انحدروا نحو سهول شرقي دجلة. سيطروا لفترة أكثر من اربعة قرون على دولة بابل وأسسوا دولة عظيمة عُرِفَتْ في التاريخ بـ(كاردونياس).

قاموا ببناء عاصمة جديدة لانزال بقاياها في (عقرقوف) في شمال

غربي مدينة بغداد، من أهم بقاياها الأثرية هي (الزقورة) التي تبين لنا خبرتهم ومهارتهم في مجال فن البناء والنحت لأن جدرانها زُيِّنَتْ بالصور الملونة

٤- الماديون (الميديون):-




صورة لحضارة الميديين

كان الميديون الى فترة طويلة يعيشون على شكل قبائل وأفخاذ صغيرة وفي حوالي سنة (٧٠٠ قبل الميلاد) تمكن احد قادتهم الذي كان يسمى (دياكو) من تنظيمهم وتأسيس دولة قوية وجعلت من مدينة اكباتان (همدان الحالية) عاصمة لدولتهم.

وقف الميديون لفترة طويلة بوجه الهجمات والحملات الاشورية الذين كانوا يريدون احتلال المنطقة.

تمكن الميديون بقيادة كى خسرو (كياكسار) بالتحالف مع الكلدانيين في بابل حيث قام الجانبان سنة (٦١٢ قبل الميلاد) بالهجوم على (نينوى) عاصمة الاشوريين وإنهاء الدولة الاشورية. شملت دولة ميديا في عهد كى خسرو جميع كردستان إضافةً الى المناطق المجاورة لها.



صورة لمنحوتة قزقaban

تمرينات

املاً الفراغات الاتية بالكلمات المناسبة:


- أ- من الشعوب التي كانت تعيش في كردستان القديمة و و
- ب- تأسست الدولة الميتانية من قبل الشعب
- ج- اسس الكاشيون دولة عظيمة عُرِفَتْ في التاريخ بـ
- ٢- ماذا تشمل كردستان القديمة؟
- ٣- تناقش مع معلمك في أهمية الدولة الميديّة في تاريخ الشعب الكوردي.
- ٤- عدد ثلاث دول قديمة في كردستان القديمة.

الفصل الثالث

أقوام العراق القديم (العراق في العصور القديمة):

١- السومريون:

من أقدم الاقوام التي سكنت جنوبيّ ميزوبوتاميا على ضفاف دجلة والفرات . بنوا القرى والمدن والمعابد، امتهنوا الزراعة وزاولوا التجارة مع الاقوام المجاورة لهم، حققوا الكثير من الانجازات الحضارية المهمة من المعادن والفخار والعمران مثال الزقورة وصنع الاختام واختراع اقدم أنواع الكتابة في حدود سنة (٣٢٠٠ ق.م) المعروفة بالكتابة السامرية، أستعملت هذه الكتابة لأنجاز المعاملات اليومية.



تمثال نرام سين

٢- الأكديون:

يعتبر الأكديون من أقدم الاقوام السامية التي هاجرت من شبه جزيرة العرب الى جنوب ميزوبوتاميا. أسسوا دولة قوية بقيادة (سرجون الاكدي) بعد تنظيم (دويلات المدن السومرية) في عهد الملك (نرام سين) بدأ الأكديون بالتوسع فأخضعوا مناطق واسعة لسيطرتهم.



لوحة من الطين نقشت عليها الكتابة السامرية



صورة الزقورة



ختم طين في عهد
السومريين

معلومات

ماهي الزقورة؟ بنى الاكديون الزقورة كمعابد للالهة، ولا زالت بقايا هذه الاثار شاخصة في جنوب العراق.

تمرينات

املا الفراغات الاتية:

- ١- في عهد الملك الأكدي تقدم فن النحت
- ٢- أكتشفت الكتابة السامرية قبل
- ٣- سكن السومريون في القسم الجنوبي من

٣- الآشوريون:

هم أحد الاقوام الذين سكنوا في شمال ميزوبوتاميا وقسم من كوردستان.

يعتقد ان اسمهم جاء من اسم أول عاصمة لهم وهي مدينة (آشور) واسم إلههم الكبير (آشور). كَوْن الآشوريون دولة عظيمة، وظهر فيهم العديد من الملوك المشهورين الذين قاموا بتوسيع حدود دولتهم. ومن الملوك من أنجز العديد من المشاريع الخدمية الأروائية والعمرانية اثارها باقية حتى الان منها مشروع ماء سنحاريب حيث قام بايصال الماء من جدول بستوره بالقرب من قرية (قله مورتك) الى داخل قلعة هولير عن طريق الكهريز وكذلك المشاريع الاخرى في منطقة الشخان خاصة (خنس) ونيوى والتي يعود جميعها الى عهد الملك سنحاريب ومن ملوك الآشوريين المشهورين (آشور بانيبال).



تمثال يعود الى عهد الآشوريين



صورة خنس في الشخان

تمريبات

- ١- ما المشروع الذي أنجزه سنحاريب لهولير؟
- ٢- من أين جاءت تسمية (الآشوريين)؟

الاماكن الاثرية القديمة في العراق

أ- أور:



تمثال أورنمو

تقع بقايا هذه المدينة بالقرب من مدينة الناصرية في (محافظة ذي قار) التي كانت من أقدم وأهم المدن السومرية. في هذه المدينة أُكْتشِفَتْ مجموعةٌ ثمينة من الحاجات والكنوز في (مقابر الملوك)، من الذهب والأقداح والخناجر الذهبية وبعض اوتار (القيثارة) المزركشة بالذهب وأشياء أخرى. ومن اثريات هذه المدينة زقورة أور التي بناها (أور نَمُو) مؤسس سلالة أور الثالثة.

ب- بابل:

أثار هذه المدينة تقع بالقرب من مدينة (الحلة) على نهر الفرات. اشتهرت كثيراً في عهدين. العهد الاول : في عهد الملك (حمورابي) وهو من الملوك المشهورين في دولة بابل الاولى، حيث اشتهر بقوانينه، المدونه على مَسَلَّةٍ من الحجر لتنظيم الحياة والحقوق وواجبات المواطنين ومعاقبة المجرمين والمخالفين، وهي محفوظة الان في متحف (اللوفر) في باريس. والعهد الثاني: عهد الملك (نبوخذ نصر) الذي بنى الجنائن المعلقة.



ج- آشور:

أثار هذه المدينة تُعرف الان بـ(قلعة شرقاط) التي تقع جنوبي مدينة الموصل على بعد ١٠ كم، وكانت مدينة آشور العاصمة الأولى للأشوريين، وفي الوقت نفسه كانت لكبار آلهة الاشوريين باسم (آشور).
أهم الاماكن الاثرية للمدينة عبارة عن البرج الرئيس للمدينة (الزقورة) الذي خَصَّصَهُ الاشوريون للآله (آشور).



مسلة حمورابي

تمرينات

صحح الجمل الاتية في أدناه:

١- اشتهرت مدينة (أور) في عهد الملك الأكدي (نرام سين).

٢- أثار مدينة آشور تُعرفُ الان بقلعة كركوك.

٣- بنى حمورابي الجنائن المعلقة.

الفصل الرابع التاريخ الاسلامي حياة الرسول (ص):

الدين الاسلامي:

الدين الاسلامي آخر الأديان السماوية، بعثه الله سبحانه وتعالى الى البشرية. جميع الاديان السماوية كالاسلام والمسيحية واليهودية مصدرها أوامر من الله سبحانه وتعالى واختار لكل من هذه الاديان رسولا لتبليغ الناس هذه الرسالة السماوية. والاسلام هي الدين الذي بعث للنبي (ص) عن طريق القرآن الكريم والشخص الذي يؤمن بهذه الديانة يُسمى (مسلماً).

أوضاع العرب قبل مجيء الاسلام:

ظهرت الديانة الاسلامية في شبه جزيرة العرب في أوضاع سيئة من نواحي كثيرة، كان العرب في هذه المنطقة يعانون العديد من المشكلات. كان العرب منقسمين على عدد من القبائل والأفخاذ كل منها يضع مصلحته في المقدمة مختلفين فيما بينهم كانوا غالباً يحاربون بعضهم لأسباب تافهة وتؤدي الحروب بحياة الكثيرين منهم. كانت حياة العرب في شبه جزيرة العرب قاسية، بسبب الجفاف وقلة الموارد إضافة الى بعض العادات الاجتماعية السيئة وعبادة الأصنام والعبودية. و(مكة) هي المكان الذي وُلِدَ فيه الرسول(ص)



الكعبة المشرفة

أهمية مكة:-

وُلِدَ الرسول محمد (ص) في مدينة مكة، من اسرة بني هاشم التابعة لقبيلة قريش، هذه القبيلة كانت من أشهر قبائل مكة، كان والده (عبد الله بن عبد المطلب) ووالدته هي (آمنة بنت وهب). توفي والده قبل ولادته،

ولد الرسول (ص) في ١٢ من الربيع الاول الموافق ل ٢٠ من شهر نيسان سنة ٥٧١م، وقد عرفت هذه السنة لدى العرب بعام الفيل. وفي عمر ناهز (٢٥) سنة تزوج امرأة من أشرف مكة وهي (خديجة بنت خويلد) وعندما بلغ عمره (٤٠) سنة نزل عليه الوحي وهو في كهف (حراء). كانت مكة مدينة مهمة ومشهورة، تمر بها القوافل التجارية وهي منذ القديم كانت مدينة مقدسة وخاصة لوجود (الكعبة) المشرفة فيها، والتي بنيت من قبل النبي ابراهيم الخليل (عليه السلام).

معلومات:

عام الفيل: وهو العام الذي هاجم فيه (ابرهة) ملك الحبشة (مكة) بهدف تدمير الكعبة وأستخدم في هجومه القبيلة.

دعوة الناس الى الديانة الاسلامية:

في بداية الامر بدأ الرسول (ص) بالدعوة الى الديانة الاسلامية بصورة سرية، وأمن به فقط عدد من المقربين اليه ثم زاد عدد المؤيدين لهذه الديانة، وقام الرسول (ص) وأصحابه بالدعوة الى الديانة الجديدة علانية.

تمريبات

- ١- كان الرسول (ص) يطلب الى الناس أن اعبدوا من؟
- ٢- كيف بدأ الرسول (ص) دعوته في بداية الامر؟
- ٣- من من هؤلاء الاشخاص هو أول من آمن بالرسول (ص)؟
زوجته (خديجة)، صاحبه (ابو بكر الصديق)، ابن عمه (علي بن أبي طالب)؟

موقف أهل مكة من الرسول:-

وقف أهل مكة منذ البداية ضد الرسول، رفضوا ترك عبادة الأصنام أو ان يديروا ظهورهم للعبادات والتقاليد الاجتماعية القديمة الخاصة بهم، ولكن الرسول(ص) وأصحابه استمروا في دعوة الناس الى الاسلام ولم يخافوا من تهديدات المشركين.

الهجرة الى المدينة:



صورة المدينة المنورة

نظراً لقساوة المشركين في تعذيب المسلمين ومنعهم من ممارسة طقوسهم الدينية والدعوة اليها، لذا كان لابد للرسول (ص) من أن يجد طريقاً لمعالجة الأمر.

وعليه قرر أن يترك مكة مع أصحابه والهجرة الى مدينة أخرى، وهي مدينة (يثرب) حيث آمن بعض من أهل هذه المدينة وقت الحج وأعلنوا اسلامهم وطلبوا من الرسول القدوم الى مدينتهم وعندما وصل اليها غيّرَ اسم هذه المدينة الى (المدينة المنورة).



مسجد الرسول في المدينة:

تمريبات

- هذه الجمل صحيحة أم خاطئة؟ صحح الأخطاء.
- ١- جميع أهل مكة رضوا بالديانة الاسلامية.
 - ٢- كان أهل مكة يعبدون الأصنام.
 - ٣- كان الرسول محمد(ص) وأصحابه تخيفهم التهديدات.
 - ٤- هاجر الرسول محمد (ص) الى المدينة المنورة.

اعمال الرسول (ص) في المدينة:

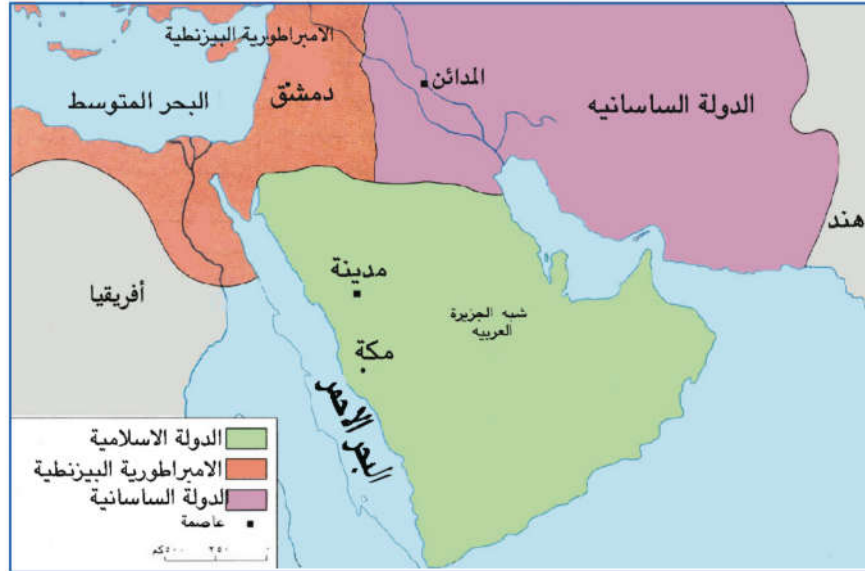
أنجز الرسول محمد(ص) عدداً من الاعمال المهمة في (المدينة المنورة) حيث قام قبل كل شيء ببناء المسجد للصلاة وادارة أمور المسلمين، ولا يزال هذا المسجد باقياً الى الان، وكذلك اصدرَ (وثيقة المدينة) لتنظيم العلاقة بين أهالي المدينة وتحديد حقوق وواجبات سكانها وكانت هذه الوثيقة تتكون من قسمين:

١- المهاجرين الذين هاجروا مع الرسول(ص) وكان يطلق عليهم (المهاجرون).

٢- اهل المدينة الذين اطلق عليهم (الانصار).

وتضمنت الوثيقة ما يأتي:

جَعَلَ المهاجرين والانصار إخوة لبعضهم (مبدأ المؤاخاة)، كما عقد الرسول (ص) عهداً مع يهود المدينة بالامتناع عن معاداة بعضهم لبعض، ولكن اليهود نقضوا عهدهم.



خارطة الدولة الاسلامية في عهد الرسول(ص)

تمارين

- ١- كيف أصبح المهاجرون والانصار مع بعضهم؟
- ٢- عدد الاعمال المهمة للرسول (ص) في المدينة.
- ٣- ماذا تضمنت وثيقة المدينة؟

انتصار الاسلام و وفاة الرسول(ص):

بعد تنظيم امور المدينة من الرسول(ص) واجه الرسول مرة اخرى أهل مكة الذين استمروا في معاداة المسلمين وكان لابد للرسول (ص) من نشر الدين الاسلامي فأعلنت الحربُ على قريش في مكة، وهكذا حدث بين الجانبين عدَّة من المعارك، من أهمها (معركة بدر) و (معركة أُحد) و (معركة الخندق).
بعد ذلك عقد الرسول(ص) في السنة السادسة للهجرة صلحَ (الحديبية) مع قريش وعلى اثر ذلك توقف القتال بين الطرفين، نتيجة لهذه الاتفاقية نشط المسلمون وكسبوا عدداً أكبر من الانصار للاسلام، ولم يدم ذلك طويلاً حيث نقضت قريش هذه المعاهدة (الصلح) ولكن المسلمين انتصروا، في السنة الثامنة للهجرة وفتح المسلمون (مكة)، وعلنَ سكانها الولاءَ للاسلام، وبعد هذه الحادثة توافقت الوفود من جميع انحاء الجزيرة العربية للاتصال بالرسول (ص) سنة (١١) للهجرة الموافق لـ(٦٣٤) للميلاد وتوفي الرسول (ص) بعد اصابته بالمرض.

تمريبات

- ١- عدد أهم معارك المسلمين مع قريش.
- ٢- تكلم عن نتائج (صلح الحديبية).
- ٣- من الذي نقضَ (صلحَ الحديبية)؟
- ٤- متى تُوفِّي الرسول (ص)؟

عهد الخلفاء الراشدين (١١-٤٠) للهجرة

العهد الراشدي: هو الفترة التي أخذ فيها أربعة من اصحاب الرسول (ص) على عاتقهم ادارة شؤون المسلمين وأصبحوا خلفاء للرسول (ص) وهم (ابو بكر الصديق، عمر بن الخطاب، عثمان بن عفان وعلي بن أبي طالب) (ص).

١- الخليفة (ابو بكر الصديق) (١١-١٣) للهجرة:

بعد وفاة الرسول (ص) اجتمع أصحاب الرسول (ص) في مكان يُسمَّى بـ(سقيفة بني ساعدة)، لأختيار شخص يَخْلُفُ الرسول (ص) لِأمامة المسلمين وبعد النقاش والمشاورة وافقوا على اختيار ابي بكر الصديق خلفاً للرسول (ص).



خارطة الدولة الاسلامية في عهد الخلفاء الراشدين

بعد اختيار ابي بكر خليفة المسلمين خلفاً للرسول (ص) ألقى خُطبة بالمسلمين في المسجد، أوضح فيها نهجه في ادارة شؤون المسلمين حيث أعلن انه يحكم بالعدل ولا يفرق بين المسلمين. تمكن أبو بكر الصديق من مواجهة القبائل العربية الذين ارتدوا عن الاسلام .
توفي الخليفة ابو بكر الصديق بعد اصابته بالمرض في سنة ١٣ للهجرة.

معلومات:

- ١- لفظة (الخليفة): تطلق على مَنْ يَخْلُفُ الرسول في تمشية امور المسلمين اليومية والدينية.
- ٢- الراشدون: (اصحاب الحكمة والبلوغ) كان يطلق على الخلفاء الاربعة لأنهم لم ينحرفوا عن نهج الرسول (ص).
- ٣- (الثورى): المشورة وتبادل الاراء بين المسلمين لأدارة الأمور ومعالجة المشاكل.

التمرينات

- ١- وضح معنى العهد الراشدي .
- ٢- أين أجمع المسلمون لأختيار خليفة الرسول؟
(في المسجد، في سقيفة بني ساعدة، في السوق).

نشاطات:

ادناه جزءٌ من حُطبة الخليفة أبي بكر الصديق:
(القويُّ فيكم عندي ضعيفٌ حتى أخذَ الحقَ منه، والضعيفُ فيكم عندي قوي حتى أخذَ الحقَ له).

٢- الخليفة عمر بن الخطاب (١٣-٢٣) للهجرة.

- الخليفة عمر بن الخطاب هو أحد أبرز الشخصيات في التأريخ الاسلامي . منحه الرسول (ص) لقب (الفاروق) وتعني (العادل). (اي الذي يفرق بين الحق والباطل) في عهده أنجزت العديد من الأعمال منها:
- ١- نشر الديانة الاسلامية في بلاد الشام ومصر وكوردستان، ما بين سنوات (١٦-٢٢) للهجرة وخاصة بعد معركتي (جلولاء ونهاوند) حيث تمكن الجيش الاسلامي من هزيمة الجيش الفارسي والوصول الى بلاد الكورد.
 - ٢- بناء مدينتي (البصرة والكوفة) في العراق و(الفسطاط) في مصر.
 - ٣- تأسيس ديوان دَوْنٍ فيه اسماء الجند ورواتبهم.
 - ٤- وضع تقويم خاص بالمسلمين وهو التقويم الهجري .
 - ٥- أستشهد في سنة (٢٣) للهجرة .

٣- الخليفة عثمان بن عفان (٢٣-٣٥) للهجرة:

وهو من أصحاب الرسول المقربين، كان رجلاً ثرياً، أنفق أموالاً كثيرة في سبيل الاسلام، في عهده كان الجيش الاسلامي مُشغلاً بنشر الديانة الاسلامية باستمرار الى ان وصل الى أبعد مكان.

من الاعمال المهمة للخليفة عثمان بن عفان:

١- أسس المسلمون في عهده ولأول مرة (أسطولا بحرياً) حتى يتمكنوا من مواجهة الاعداء في البحر أيضاً والسيطرة على الجزر والمناطق البحرية.

٢- اكمال مابداً به الخليفة ابو بكر الصديق في جمع القرآن الكريم، حيث دُوِّنت نسخة كاملة، ثم دُوِّنَ عليها عدد من النسخ الاخرى وأرسلت الى الاقاليم المختلفة من الدولة الاسلامية.

تمارين

ماتحته خط عبارات خاطئة، صححها:

١- الخليفة عثمان كان شخصاً فقيراً.

٢- احدى الأعمال المهمة للخليفة عثمان كتابة الاحاديث النبوية الشريفة.

٤- الخليفة علي بن أبي طالب (٣٥-٤٠) للهجرة:-

الامام علي وهو ابن عم الرسول (ص) أعتنق الاسلام وعمره (١٠) سنوات، وترعرع في بيت الرسول، لذا كان تحت اشراف جيد.

تزوج الخليفة علي بن أبي طالب فاطمة بنت الرسول وُلدت له حفيدي الرسول (الحسن والحسين). عُرِفَ الامام علي بفصاحة اللسان والعلم والخبرة والعدالة والمحافظة على أموال المسلمين. ولكن في عهده ازدادت المشاكل الداخلية لأستلام السلطة، الى ان وصلت الأمور الى اندلاع الحرب التي أَلحقتُ أضراراً كبيرةً بجميع الناس، بل استشهد هو أيضاً سنة (٤٠) للهجرة نتيجة لهذه الحرب. وبهذا انتهى العهد الراشدي وبدأ عهد آخر في التاريخ الاسلامي عُرِفَ بالعهد الأموي.

تمارين

١- بابنة من تزوج الامام علي؟

٢- بماذا عُرِفَ الخليفة علي بن أبي طالب؟

٣- متى انتهى العهد الراشدي؟

عهد الامويين:

بعد الخليفة (علي بن أبي طالب) تسلم السلطة الامويون الذين كانوا جزءاً من قريش.

معاوية بن أبي سفيان:

معاوية بن أبي سفيان وهو أول خليفة للامويين، اتخذ من مدينة دمشق عاصمة له، بعد ذلك بدأ بتنظيم امور الدولة وأسس عدداً من الدواوين، من أشهرها (ديوان البريد وديوان الخاتم) في عهد الامويين أنجزت اعمال مهمة، حيث تم اصدار العملة الاسلامية لأول مرة في عهد الخليفة عبد الملك بن مروان ودون على أحد وجهيها:

(بسم الله الرحمن الرحيم الله احد الله الصمد)



صورة العملة الاموية

ومن الناحية العمرانية حاول الامويون انجاز اعمال جيدة، خاصة في عهد الخليفة الوليد بن عبد الملك حيث بنيت العديد من العمران والمساجد والمستشفيات، ومن أهمها (الجامع الكبير الاموي) في دمشق.



صورة الجامع الاموي الكبير في دمشق

معلومات:

الأمويون: بما أن الجد الأكبر لخلفاء الامويين يسمى (أمية) لذا سميت دولتهم بهذا الاسم.

ديوان البريد: كانت مهمته ايصال الرسائل للناس.

ديوان الخاتم: كانت مهمته ختم الرسائل والأوراق الرسمية للدولة.

ال خليفة عمر بن عبد العزيز :-

كان أحد الخلفاء الامويين البارزين، عُرفَ بالعدالة ومعاملة الناس بالمساواة، لذا يسمى في بعض الاحيان بالخليفة الراشدي الخامس، كان يحاول في حكمه تطبيق مبادئ الدين الاسلامي، توسعت الدولة الاسلامية كثيراً في عهد الامويين.

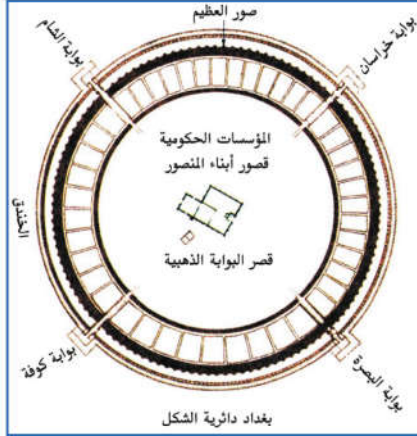
حكم الامويون سنة (١٣٢) للهجرة وكان آخر خلفائهم هو (مروان بن محمد) الذي انتهت في عهده الدولة الاموية على يد العباسيين، وبانتهائه انتهت الدولة الاموية وتسلم العباسيون السلطة.

تمريبات

- ١- ما اسم اول خليفة للامويين؟
- ٢- ما اسم المدينة التي كانت عاصمة للامويين؟
- ٣- أهم اعمال معاوية؟
- ٤- املأ الفراغات الآتية:
أ- لأول مرة قام الخليفة باصدار العملة الاسلامية.
(معاوية بن أبي سفيان، عبد الملك بن مروان، الوليد بن عبد الملك).
ب- مدينة كانت عاصمة الدولة الاموية.
(دمشق، بغداد، الكوفة)
ج- انتهت الدولة الاموية على يد
(الراشدين، العباسيين).
- ٥- من هو آخر خليفة للامويين؟
- ٦- بماذا عُرفَ الخليفة (عمر بن عبد العزيز)؟
- ٧- لماذا سُمِّيَ عمر بن عبد العزيز بالخليفة الراشدي الخامس؟

عهد العباسيين (١٣٢-٦٥٦) للهجرة/ (٧٥٠-١٢٥٨) للميلاد

تسلم العباسيون السلطة بعد الامويين، وهم من أحفاد (العباس) عم الرسول (ص) لذا سميت دولتهم بهذا الاسم.



أول خليفة عباسي كان اسمه (ابو العباس) وتسلم السلطة بعده أخوه (ابو جعفر المنصور)، من أهم أعمال الخليفة (ابو جعفر المنصور) بناء مدينة بغداد، والتي كانت على شكل دائرة واتخذها عاصمةً للدولة العباسية.

هارون الرشيد:

تسلم السلطة من بعد (ابو جعفر المنصور) عدد من الخلفاء، منهم هارون الرشيد الذي أنجز العديد من الاعمال المهمة، منها الاهتمام كثيراً بالعلم والمعرفة وقام ببناء بيت الحكمة) وجمع فيها كثيراً من الكتب، وبعد هارون الرشيد تسلم الحكم ابنه (المأمون) وكان مشجعاً للعلم والمعرفة.

خارطة مدينة بغداد القديمة



صورة لمدينة بغداد

تمريبات

هذه العبارات خاطئة صححها:-

- ١- أول خليفة عباسي اسمه ابو جعفر المنصور.
- ٢- بنى (أبو العباس) مدينة بغداد؟
- ٣- اسس المأمون بن هارون الرشيد بيت الحكمة.

اوضاع الدولة العباسية:

توسعت حدود الدولة الاسلامية كثيراً في العهد العباسي.

في عهد العباسيين لعب جميع الاقوام الذين اعتنقوا الاسلام دورهم (كالكورد والفرس والترك و.....) وكانوا يعملون من أجل تقدم الدولة الاسلامية، وقاد كل من اولئك الاقوام المسلمة الدولة في فترات مختلفة.



خارطة الدولة العباسية

العمران:

أهتم العباسيون كثيراً بالمجال المعماري فبنوا العديد من المدن والتي لازالت باقية ، مثل مدينة بغداد ومدينة سامراء التي بناها (المتنصم).



ملوية سامراء

لم تبق الدولة العباسية قوية بل تعرضت الى العديد من الهجمات الخارجية الا ان (الاقوام المسلمة مثل (الكورد، الفرس، الترك) في كثير من الاحيان وقفوا الى جانب العرب بوجه هذه الهجمات، على سبيل المثال عندما سيطر الصليبيون على أراض المسلمين قام القائد الكوردي المسلم المعروف (صلاح الدين الايوبي) بدعم من القبائل الكوردية المسلمة بمواجهتهم وتحرير منطقة واسعة من بلاد فلسطين من سيطرة الصليبيين.

وعلى يده تحررت (القدس)

ضعف الدولة العباسية:

كانت الدولة العباسية تسير نحو الضعف باستمرار بسبب العديد من العوامل، أهمها عدم اهتمام بعض لخلفاء العباسيين بإدارة أمور الدولة وحياة الناس، الى ان انتهت الدولة العباسية سنة (٦٥٦) للهجرة الموافق (١٢٥٨) للميلاد على يد المغول (وهم من الشعوب الاسيوية) اذ تمكنوا من انتهاء السلطة العباسية.

معلومات:-

الصليبيون أناس قدموا من اوربا وقاموا بهجمات على المسلمين نقشوا على ملابسهم رمز الصليب.



القائد الكوردي المسلم
(صلاح الدين الايوبي)

معلومات:-

القائد الكوردي المسلم (صلاح الدين الايوبي) كان من فخذ روائي (روند) لتابع لعشيرة (هزباني) الكوردية. أسس سنة ١١٧٢م الدولة الايوبية في مصر، بعد ذلك تمكن من ضم شمالي السودان وشمال شرقي ليبيا ومناطق اليمن والحجاز والشام والجزء الاكبر من كوردستان الى دولته. في معركة (حطين) المشهورة تمكن بمساعدة القبائل والعشائر والقيادات الكوردية والمسلمين من تحقيق الانتصار على الصليبيين وتحرير مدن فلسطين، واحدة تلو الاخرى كان أهمها مدينة (القدس). بعد وفاة صلاح الدين كان يُديرُ هذه الدولة اخوته وأبناءُ اخوته، الى سنة (١٢٥٠) م حيث سقطت هذه الدولة على يد المماليك.

تمرينات

- ١- عدد أسماء بعض الاقوام الاسلامية الذين كان لهم دور في العهد العباسي.
- ٢- من هو صلاح الدين الايوبي؟ وما الخدمة التي قدمها للدولة الاسلامية؟
- ٣- في عهد العباسيون كثيراً بالناحية العمرانية. ناقش هذه العبارة.
- ٤- على يد من سقطت الدولة العباسية؟


الفصل الخامس

الامارات الكوردية

كان للشعب الكوردي كبقية شعوب العالم دور مهم في العهد العباسي، بل حاول بعض من الكورد ان تكون لهم حكومتهم الخاصة بهم ونتيجة ذلك تأسست العديد من الامارات والحكومات والدول على أرض كوردستان وكانت كل واحدة منها قد حكمت منطقة محدودة من كوردستان. أهمها:

١- الامارة حسنوية:-

هي إحدى الامارات الكوردية التي تأسست في العهد العباسي كانت تحكم منطقة شهرزور الحالية التابعة



مدينة همدان كانت عاصمة لامارة الحسوية

لحافضة السليمانية مع عدد من المدن في كوردستان الشرقية(ايران) خاصة مدن (دينور، كرمنشاه، همدان ونهاوند) تأسست هذه الامارة في عهد (الامير حسين) وهو رئيس قبيلة (برزيكاني) وحكم بعده الأمير(حسويه) وهو ابن الامير حسين وبعده تسلم الحكم (الامير بدر)، قام هذا الامير بأصدار عملة خاصة به اضافة الى انجاز العديد من الاعمال الاخرى مثل (بناء الطرق والجسور والمساجد والاهتمام بالتجارة).

توفي الامير بدر في سنة ١٠١٤ للميلاد وتسلم الحكم من بعده ابنه الاكبر(هلال) حتى انتهاء هذه الامارة سنة ١٠١٥ للميلاد.

٢- الدولة دوستكية- المروانية

الدولة دوستكية- المروانية هي إحدى أشهر الدول الكوردية في العهد العباسي، مؤسس هذه الدولة هو



العملة سكنت في عهد مير بدر

(الامير بادي ابن دوستك). حكمت هذه الدولة جزءاً كبيراً من كوردستان لفترة تزيد على مائة عام.


ظهرت هذه الدولة في البداية في منطقة ثامد(ديار بكر) في شمال كوردستان، بعد ذلك توسعت حدودها حيث شملت الكثير من المناطق الاخرى من شمالي كوردستان، حيث وصلت حدودها الى اقليم الجزيرة التابع لسوريا الحالية



صورة لجسر بنا في عهد مير بادين

ومدينة الموصل في جنوب كردستان.
ك(آمد)، ميافارقين، ماردين، أورفة
سهرد، بدليس وجزيرة بوتان والعديد من
المدن الأخرى). بعد (الأمير باد ابن
دوستك) تسلم السلطة (ابو علي بن
مروان) وبعده أخوه سعيد الذي قام بإدارة
دولته وبعده العديد من الأمراء الآخرين
الذين قاموا بإدارة الدولة.

من الأمراء المشهورين للدولة الدوستكية (الأمير أحمد بن مروان) الذي منحه الخليفة العباسي لقب (نصر
الدولة)، توفي الأمير أحمد في سنة (١٠٦١ للميلاد). سقطت دولتهم على يد الأتراك السلجوقيين في سنة
(١٠٩٦ للميلاد).



الآثار الباقية للدولة الدوستكية

أعمال الدولة الدوستكية (المروانية):

في عهد الدولة الدوستكية (المروانية) كان
الاهتمام كثيراً بالأعمال العمرانية وبناء الطرق والجسور والمساجد والأسوار للمحافظة على المدن من
الهجمات الخارجية.



شعار الدولة الدوستكية

إضافة إلى إصدار العملة الخاصة
بالدولة الدوستكية والتي دون فيها أسماء
أمراءهم عليها.
أما السكان فكانوا يعملون في الزراعة
وتربية الحيوانات وكان للدولة الدوستكية
شعاراً خاصاً بها والتي تمثل في صورة
الأسد.

التمرينات

- ١- من الذي أسس الأمانة الحسنوية؟
- ٢- الى أين تمتد حدود سلطة الأمانة الحسنوية؟
- ٣- ما أهم اعمال الأمير بدر؟
- ٤- هذه الكلمات التي تحتها خط وهي خاطئة. صححها:
أ- تأسست الدولة الدوستكية- المروانية في البداية في دهوك.
ب- مؤسس الدولة الدوستكية- المروانية اسمه ابو علي.
ج- تأسست الدولة الدوستكية في عهد الأمويين.
٥- اختر الجواب الصحيح:-
أ- بعد الأمير باد تسلم السلطة الأمير (ابو علي، سعيد، احمد).
ب- (نصر الدولة) كان لقباً للأمير (باد، احمد، سعيد).
ج- الأمير أحمد كان شخصاً (مسالماً، شريراً)



جانب من سور آمد الذي ساهم المروانيون في بناؤه



المواطنة

الوطن: عبارة عن (مكان محدد)، وُلدنا فيه نحن وأباؤنا ونعيش عليه كما عاش أجدادنا. كلُّ منّا يعيش في عائلة وداخل بيت معين، وبوجود مجموعة من البيوت تتكون محلة أو قرية. ومن عدة أحياء تتكون مدينة أو قسبة، وللقرية والمدينة قطعة أرض معينة ومحددة خاصة بهما يعيش عليها مواطنو هذه المنطقة.

هذا المكان (الوطن) يُعرف باسم الشعب الذي يعيش عليه مثل (كوردستان، هندستان، باكستان..). اذن هذا المكان الذي ولدنا فيه نحن وأباؤنا وأجدادنا وعشنا عليه ونعيش وتربينا فيه يُسمى بـ(الوطن). الشعب الكوردي كشعوب العالم الاخرى له وطنه الخاص به عاش ويعيش عليه. في الوقت الذي استفاد من تربته وثورته وذاق منه أفراح وآلام الحياة، فهو في الوقت نفسه ضحّى من أجله وقدم له الكثير من الخدمات دون التاريخ له على صفحاته العديدة كثيراً من البطولات والملاحم، وكيف اختلقت دماء ودموع وعرق ابناؤه للمحافظة على هذه التربة الحبيبة. فجمال الوطن وقيمه وحبنا له لا مثيل له لذا فهو دوماً على الألسنة وفي القلوب يذكر، وقليل من الناس من لا يحب وطنه، فالاحساس بحب الوطن (الشعور بالانتماء اليه يُسمى بـ(المواطنة).

المواطنة :- عبارة عن شعور الانسان بالمسؤولية لِماله من الحقوق وما عليه من الواجبات تجاه شعبه ووطنه، وأحد هذه الواجبات هو المسؤولية التي تقع على عاتقه للمحافظة على جميع المرافق الخدمية التي يستفيد منها الجميع، سواءً التي بنتها الحكومة أم التي بناها القطاع الخاص من المتمكنين.

١- خدمات المياه الصالحة للشرب.

٢- طرق المواصلات.

٣- المجاري.



مجلسه ازادي - السليمانية

Kurd Net © 2004 www.ekurd.net

- ٤- الكهرباء .
 ٥- مراكز التعليم والصحة .
 ٦- الحدائق العامة .
 ٧- المؤسسات الحكومية الخاصة بأمور المواطنين . ك(المحاكم، مراكز الشرطة، البلدية.....الخ)

تمريبات

- ١- املأ الفراغات الآتية:
 أ- الوطن أرض نحن وأجدادنا فيها .
 ب- كردستان بأسم شعبها .
 ج- المواطنة عبارة عن بالمسؤولية تجاه الشعب والوطن .
 ٢- اذكر الخدمات المهمة التي نستفيد منها يومياً .



١- المياه الصالحة للشرب:-

بما أن الكائنات الحية لا تستطيع العيش بدون الغذاء كذلك فهي لا تستطيع العيش بدون ماء، إذن الماء أحد الأسس المهمة لأدامة الحياة. نحن البشر نعيش مثل بقية الكائنات الحية الأخرى على هذه الأرض، لانستطيع العيش بدون ماء.

فوائد المياه:- لا يستعمل الماء للشرب فقط، بل للتنظيف، والطبخ، والزراعة والصناعة والمعامل ويستعمل لسقي الحدائق العامة... .

مصادر مياه الشرب:

الماء الذي نستهلكه حالياً في المدن والقصبات والقرى، نحصل عليه من مصادر متعددة. توفير المياه يتم عن طريق الابار ومشاريع إسالة الماء، اما مياه القرى فيتم توفيرها عن طريق الابار والينابيع والعيون والسيول والجداول والانهار. هذه الثروة الوطنية المهمة هي احدى الحاجات الضرورية لحياتنا التي خُصَّصَ لها رأسمال كبير، لأجل ان يستفيد منها المواطنون.



في مدينة (هولير) على سبيل المثال اضافة الى الابار الأرتوازية المحفورة في داخل مركز المدينة والتي تعتمد على المياه الجوفية، هناك مشروع ماء (الأفران) الذي يوصل المياه الصالحة للشرب بواسطة الأنابيب من الزاب الكبير الى داخل المدينة بطول عدة كيلو مترات وبهذا المشروع تم حل مشكلة شحة المياه في مدينة (هولير) أما في (السليمانية) فقد تم تنفيذ مشروع ضخ لا يصلح المياه

الصالحة للشرب من بحيرة دوكان عن طريق الأنابيب الى البيوت، بحيث أدى الى حل مشكلة شحة المياه فيها. وكذلك في مدينة (دهوك وبالشكل ذاته، فقد قامت حكومة الأقليم بتنفيذ مشروع إيصال مياه (چم بركات وخراب چم من سد الموصل) بواسطة الأنابيب الى المدينة وبهذا المشروع تم حل مشكلة شحة المياه في المدينة. ولم تهمل القرى في هذا المجال، فمعظم القرى التي دمرت في عهد النظام البعثي، تم اعمارها من جديد بعد الانتفاضة الشعبية فبنيت مشاريع المياه الصالحة للشرب، إما بواسطة حفر الابار الأرتوازية او عن طريق المشاريع الصغيرة والسيارات الحوضية المتجولة التي تعمل على إيصال المياه للمواطنين.

تلوث مصادر المياه:

تلوث مصادر المياه الاعتيادية في القرى أحياناً نتيجة العوامل الاتية:

- ١- استعمال المبيدات الكيماوية لأبادة الحشرات الموجودة في المحاصيل الزراعية.
 - ٢- رمي الحيوانات الميتة وفضلاتها (مخلفاتها) في المياه.
 - ٣- تتسرب المياه القذرة من البيوت الى مصادر المياه.
 - ٤- استعمال الادوات والأواني الملوثة في نقل المياه.
- يظهر ان هذه هي أسباب تلوث مصادر مياه الشرب في القرى، ولتفادي التلوث يجب أن نتبع الطرق الاتية:-





- ١- المحافظة على الجداول والعيون من فضلات الحيوانات.
- ٢- منع تسرب المياه القذرة الى الينابيع.
- ٣- حفظ مياه الشرب في خزانات نظيفة ومغلقة.
- ٤- غلي مياه الشرب أو تعقيمها من المايكروبات.
- ٥- استعمال الاواني والادوات النظيفة في شرب الماء ومن مكان نظيف، لان الماء الملوث مصدر من مصادر انتشار معظم الامراض.

تمرينات

أجب عن الاسئلة الاتية:

- ١- ما العوامل التي تُسببُ في تلوث المياه في القرى؟
- ٢- كيف تحافظ على مياه القرى من خطر التلوث؟

عدم اهدار الثروة المائية:-

- ومن أجل أن نستفيد من هذه الثروة المهمة وأن لا نفقدتها يجب أن لانسمح بأهدارها، وينبغي ان ندرب أنفسنا وأفراد أسرنا وننبههم بأن هذه الثروة هي ملك للجميع والمحافظة عليها واجب على عاتق جميع أفراد المجتمع، وكما قلنا: الماء مصدر البقاء والحياة يمدنا بالحياة المرفهة ولجميع الكائنات الحية، وعلينا أن نخطو بعض الخطوات للمحافظة على المياه وهي:
- ١- لا يجوز ان نستعمل الماء أكثر من حاجتنا.
 - ٢- ان ندرب اخوتنا الصغار على عدم اللعب بالماء في البيت لأن ذلك يؤدي الى اهدار كمية كبيرة منه.
 - ٣- التأكد من غلق الحنفية بعد غسل الوجه والاسنان، او أي شيء آخر.





- ٤- لاستعمل (الصوندة) والمضخة في غسل البيت والسيارة.
- ٥- اغسل الخضروات والفواكه في الأواني المفتوحة، ولا تضعها تحت الحنفية.
- ٦- عندما نشاهد في أي مكان احدى انابيب المياه المكسورة علينا اعلام الجهة ذات العلاقة مباشرة لأصلاحها، ومن أجل ذلك:
- أ- لا بد أن يصل الماء الى جميع الجهات بصورة متساوية.
- ب- تتسرب المياه الملوثة، الى مياه الشرب لأنه يؤدي الى انتشار الامراض المتنوعة.
- ٩- لا يجوز مد أنابيب المياه الى البيوت بدون علم الجهات المسؤولة لأن ذلك يترتب عليه نتائج سلبية، كما ذكرنا سابقاً.

معلومات:-

الماء ثروة وطنية مهمة جداً، ولأهميته أصبح اليوم مصدراً للمشاكل والصراع بين الدول. كما هي الحال بين (العراق - إيران) وبين (العراق - تركيا) وبين (العراق - سوريا).



تمرينات

- ١- ضع علامة (✓) امام العبارات الصحيحة وعلامة (x) امام العبارات الخاطئة.
- أ- اقوم كل اسبوع بغسل سيارتنا بماء الاسالة في البيت.
- ب- اذا شاهدت أنبوب ماء محلنتنا مكسوراً، فسأقوم حالاً بإعلام دائرة الماء.
- ج- أسبح في حوض ماء قريتنا صيفاً.
- د- أقوم برمي فضلات الحيوانات والأزبال والنفايات في جدول ماء قريتنا.
- هـ- لتنظيف الفواكه والخضروات لأضعها تحت أنبوب الماء الرئيسي في البيت.
- ٢- كيف تحافظ على المياه الصالحة للشرب؟

الشارع من (طرق المواصلات):



يعتمد تقدم كل بلد على طرق مواصلاته، لأنها من المظاهر الأكثر والاسع فائدة في حضارة اليوم. فهي تخدم الانسان في تقليل التكاليف وتعود بالراحة على المواطنين وتقرب المسافات البعيدة والصعبة. اذا نظرنا الى بعض مدننا، وجدنا فيها شوارع واسعة، تتوسطها جزرات جميلة، تمتليء خضرة وأزهاراً زاهية، تُشعِرُ الانسان بالراحة والاطمئنان.



الشوارع النظيفة تُبعِدُنَا عن الأوحال والمياه القذرة، وتُسَهِّلُ لنا الوصول. اما الطرقات الضيقة التي فيها الحفر والمياه القذرة فصعوبة السير فيها واضحة ومؤكدة، لنا ولسياراتنا.

للشوارع فوائد كثيرة، فإضافة الى التنقل الاسهل والاسرع فهي تبعدنا عن الخسائر المادية والبشرية التي قد نتعرض لها.

وبواسطة الشوارع المبلطة، تنخفض الاسعار، ويسهل وصول السلع والبضائع من القرى الى المدن وبالعكس. وبذلك يخف العبء على كاهل المواطنين. فالحفاظ على الشارع واجب مقدس.



ماهي الخطرات المتبعة

لحفاظ على الشوارع

- 1- عدم حفر الشوارع بدون علم وموافقة الجهات المسؤولة في البلدية لمد انابيب مياه الشرب او المياه الاسنة، لغرض اصلاحها بعد الحفر.
- 2- لايجوز تسرب المياه القذرة من البيوت الى الشوارع، لأن ذلك يتسبب في تكوين الحفر وتجمع القاذورات والمياه الاسنة.
- 3- عدم رمي مخلفات البناء على الشوارع، لأن ذلك

يؤدي الى قطع الطريق وتدمير الشوارع واستياء المواطنين وازهار شكل المدن بمنظر قبيح وتدمير الشوارع.

ولأجل أن تكون حركة المواطنين اعتيادية تحاول الحكومة باستمرار ان تضمن الرفاهية للمواطنين والوصول الى أماكن عملهم يومياً بسهولة، إضافة الى بناء الشوارع والأرصفة والأنفاق والجسور العالية، كما وُضع على الشوارع والتقاطعات أشخاص يعملون بنكران ذات من أجل المحافظة على المواطنين من حوادث المرور.



هؤلاء هم (شرطة المرور) الذين يحمون أرواح وأموال المواطنين، يعملون ليلاً ونهاراً في خدمتهم علينا ان نحترمهم ونسمع توجيهاتهم وأن لانخالف ارشاداتهم، لكي نكون آمنين على أرواحنا وأرواح الآخرين.

معلومات:-

لكي تبقى المدينة وحدائقها وشوارعها جميلة دوماً، لأنمُدُّ أيدينا الى الورود والأشجار ولانكسر أغصانها فإن ظلالتها تحميها من أشعة الشمس في الصيف.

معلومات:-

لتنظيم المرور وضع جهاز في التقاطعات، يسمى ال(ترافيك لايت) وهي الاشارات الضوئية. فعندما يظهر اللون الاحمر فذلك يعني الوقوف أما الاخضر فهو علامة للمرور، وأما الأصفر فهو يشير الى الحذر والوقوف (علامة للتنبيه).

- أنا أتبع ارشادات شرطة المرور عند العبور لكي أحافظ على حياتي من الخطر.



٣- المجاري:-



خدمة أخرى تقدمها الدولة للمواطنين وهم جميعاً يستفيدون منها.
فهي تجمع المياه القذرة ومياه الامطار ولا تسمح بتسربها الى الازقة والشوارع وتساعد على إبقاء البيئة نظيفة.



للبيئة النظيفة علاقة بمستوى الوعي الصحي والشعور بالمواطنة.

الشعور بالمحافظة على الأملاك العامة دليل على الأخلاص والاحساس البارز بالمواطنة، الإنسان الواعي والحضاري عندما يرى ان الازقة والشوارع غير نظيفة يشعر بالخجل ويتألم، لأنها تظهر مدى تخلف الانسان.

هناك خطوات سليمة لكي تبقى شوارعنا نظيفة وجميلة لاترجم الأزبال والمخلفات من القناني الفارغة (للمياه أو للمشروبات الغازية) وكذلك اكياس النايلون والأوراق على الشوارع وفي داخل المجاري، بالنتيجة تتجمع وتؤدي الى انسداد المجاري وخاصة وقت هطول الامطار حيث تتعرض الأزقة والشوارع الى ارتفاع منسوب المياه وحدوث الفيضان فيُسبب أضراراً كبيرة للمواطنين.



تتكرر هذه الظاهرة سنوياً في فصل الشتاء ويتعرض المواطنون خلالها لأضرار مادية او بشرية جسيمة.



فالمحافظة على نظافة مدينتنا ليس من واجب البلدية وحدها بل يجب على الجميع التعاون والتنسيق مع المؤسسات البلدية وعلينا جميعاً أن ننفذ ارشادات وشروط البلدية والصحية الخاصة بالنظافة ونشجع من لا يلتزم بهذ الارشادات، لكي نكون قدوة للآخرين.

ح- الكهرباء:-



عرف الانسان الكهرباء منذ عشرات السنين وأستعمل الأجهزة الكهربائية منذ ظهورها للأضاءة بواسطة (المصابيح) ثم استعمل مجموعة جديدة من الأجهزة الكهربائية في مجالات متعددة نتيجة للأختراعات المتتالية ولازال اختراع الاجهزة المتنوعة مستمراً لتوفير الرفاهية والطمأنينة للإنسان.



تعتبر الكهرباء احدى الحاجات الضرورية للإنسان ومن الصعب في يومنا هذا ان يستطيع الانسان الاستمرار في حياة تسودها الطمأنينة دون توفر هذه الخدمة، لأن الكهرباء في الوقت الحاضر لاتستعمل للأضاءة فقط، بل استحدثت اجهزة كهربائية جديدة مثل (السخانات، الطباخات الكهربائية، المدافيء، الهيترات، الغسالات، الثلاجة والمجمدات، السبليت والمكواة...).



ونتيجة لهذه الأختراعات العظيمة التي تحققت في مجال الكهرباء أمتلأت الأسواق بالأجهزة الكهربائية المتنوعة وبأمكان المواطنين الحصول عليها بسهولة ولاسيما من أصحاب الدخل الجيد.





السد المائي لتوليد الطاقة الكهربائية

معلومات:-

في إقليم كردستان- العراق تتولد الطاقة الكهربائية من مصدرين أساسيين:

أ- الكهرومائية:- يتم توليدها عن طريق استغلال المياه الجارية.

ب- الكهروحرارية: تتولد بأستعمال الوقود مثل (النفط ومشتقاته).

ومن مصادر الطاقة الأخرى (الطاقة الشمسية، الطاقة الذرية...).

زيادة الطلب على استعمالات الأجهزة الكهربائية، تضع عبئاً ثقيلاً على عاتق مؤسسات إنتاج القوة الكهربائية، والتي تحتاج الى إنتاج كمية أكثر من الطاقة. وإنتاج هذه الكمية يحتاج الى أموال كثيرة وأيدي عاملة ماهرة.

يقوم المواطنون في فصلي الصيف والشتاء بأستعمال أجهزة التبريد والتدفئة بصورة غير إعتيادية وهذا بدوره يؤثر في نسبة الإنتاج والطلب.



- من المحتمل أحياناً أن لا يكون بمقدور المؤسسة الانتاجية معالجة هذه الزيادة. لذا تضطرُّ الى العمل على تقليل ساعات توفير الكهرباء، وهذا يؤثر في الحياة اليومية للمواطنين.
- ومن أجل تقليل استهلاك الطاقة الكهربائية، يجب إتباع بعض الخطوات من أجل المحافظة على هذه الثروة الوطنية وهي:-
- ١- تقليل استعمال الطاقة الكهربائية في مجال الصناعة، التجارة، البيت والدوائر الحكومية...).
 - ٢- توعية المواطنين سواء في المدارس ام في الأماكن العامة كالجوامع والأسواق.... لترشيد استهلاك الكهرباء وأستعمال الكمية المطلوبة حسب الحاجة.
 - ٣- غلق الابواب والشبابيك بصورة منتظمة وعدم تركها مفتوحة على الدوام، لأن فتح الأبواب والشبابيك باستمرار يَحْتَاج الى طاقة اكثر.
 - ٤- المراقبة المستمرة للأجهزة الكهربائية في كيفية عملها.
 - ٥- عدم استعمال الأجهزة الكهربائية المتنوعة في آن واحد، فمن الافضل استعمال الجهاز المطلوب فقط في المكان المطلوب.
 - ٦- التأكد من إطفاء جميع الأجهزة الكهربائية في الدوائر بعد انتهاء الدوام الرسمي يومياً.



معلومات:-



- استعمال الاجهزة في وقت الحاجة لاتقلل الطاقة المستهلكة فقط بل تطيل من عمر الأجهزة أيضاً.
- إطفاء مصباح واحد في كل بيت له تأثيره على النزود بالكهرباء لفترة أطول.
- التقليل من الاضاءة بمصباح واحد في بيتك، هو اضاءة لبيت آخر.



تمريبات

- 1- ضع علامة (✓) امام العبارات الصحيحة وعلامة (x) امام العبارات الخاطئة.
- 1- من أجل عدم الاسراف في استعمال الكهرباء اقول لأفراد أسرتي: اطفئوا الأجهزة والمصابيح الزائدة.
- 2- عندما ألعب مع أصدقائي لأفتح فوهة المجاري.
- 3- نضع مواد البناء والمخلفات على الشوارع.
- 4- لأرمي الأزبال والنفايات في المجاري .

٥- دوائر الخدمات العامة:-

لكل من هذه الدوائر الخدمية (المدرسة، المستشفى، المؤسسات الحكومية والحدائق العامة...) غرض معين، هدفه تقديم الخدمة للمواطنين لتحقيق حياة مليئة بالطمأنينة والرفاهية لجميع اعضاء المجتمع.

لذا على كل فرد من أفراد هذا المجتمع إبقاء أهمية هذه المكتسبات عالياً والمحافظة عليها بالشكل الآتي:-

١- المحافظة على جميع ممتلكات (المدرسة، المستشفى، الحدائق العامة وجميع الدوائر الحكومية) وإبقاء جدران هذه الابنية والشوارع نظيفة.

٢- عند زيارة الحدائق العامة يجب ان نحافظ على نظافتها وعدم التعرض للاشجار والشجيرات والأزهار بالقطع لأنها ذات فوائد كثيرة، تساعد على تلطيف البيئة وتضفي عليها جمالاً أكثر، ومن جهة اخرى تكون لها فوائد صحية ونفسية أيضاً.

٣- يجب مراعاة ارشادات الدوائر الخدمية من أجل تمشية الأعمال اليومية للمواطنين بصورة اعتيادية.

٤- عدم استعمال الدوائر العامة للأغراض الخاصة، بحيث تؤدي الى استياء السكان والحاق الضرر بالمصلحة العامة.





تمرينات

١- املأ الفراغات بالكلمات المناسبة:

- أ- الدوائر العامة عبارة عن و ، و الخ
 ب- في مدرستنا علينا ان نحافظ على و
 ٢- عند زيارتنا لأية دائرة عامة يجب مراعاة ارشاداتهم.
 تكلم باختصار عن هذه العبارة.



معلومات:-

المستشفيات، هي احدى المؤسسات المهمة للمجتمع، يُعالج فيها المواطنون من الامراض لذا فالمحافظة عليها واجب على عاتقنا جميعاً.

نشاطات:

عندما تتجول في ساحة مدرستك، التقط الأوراق المرمية على أرضيتها وضعها في المكان المخصص لجمع الأتربة والنفايات، وبعملك هذا تؤدي واجباً وطنياً.

ماذا تفعل إذا رأيت المتفجرات؟

- 1- لا تقترب منها بأي شكل من الأشكال.
- 2- لا ترم صوبها الاحجار أو قطع الاخشاب.
- 3- في حال الشك بوجود اجسام غريبة قم بتبليغ شخص راشد (أبوك، أخوك، معلمك، أو احد اعضاء المجلس المحلي).

ماذا تفعل إذا رأيت شخصاً يقترب من المتفجرات أو الانغام؟

- 1- اذا رأيت شخصاً يعيث بأشياء غريبة فحذره واخبره بانها قد تكون مواد خطيرة (متفجرات).
- 2- إذا استمر في تصرفه ولم يصغي لكلامك فعليك ترك المكان والابتعاد عن الخطر.
- 3- بلغ شخصاً راشداً (أبوك، أخوك، معلمك، اعضاء المجلس المحلي) لاتخاذ الاجراءات المناسبة.



الفهرست

الصفحة	الموضوع
	الجغرافية
١١-٥	الفصل الاول/ الجغرافية الطبيعية لإقليم كردستان
١٦-١٢	الفصل الثاني/ تضاريس إقليم كردستان
٢٠-١٧	الفصل الثالث/ المناخ
٢٢-٢١	الفصل الرابع/ النبات الطبيعي
٢٥-٢٣	الفصل الخامس/ مصادر المياه
٤٠-٢٦	الفصل السادس/ الجغرافية البشرية
٤٣-٤١	الفصل السابع/ السياحة
	التاريخ
٥٢-٤٨	الفصل الاول/ تاريخ كردستان القديم
٥٥-٥٣	الفصل الثاني/ الاقوام القديمة في كردستان
٥٩-٥٦	الفصل الثالث/ العراق في العصور القديمة
٧٢-٦٠	الفصل الرابع/ التاريخ الاسلامي
٧٥-٧٣	الفصل الخامس/ الامارات الكوردية
٩١-٧٧	المواطنة

A large rectangular area with a white background and a thin orange border. It contains 25 horizontal dotted lines, evenly spaced, intended for handwriting practice.